



Guía N°1 de Apoyo Pedagógico

Asignatura	Matemática
Curso	1° Básicos A
Profesoras	Angélica Atenas
OA	OA 1 Contar números naturales del 0 al 100, de 1 en 1, 2 en 2, 5 en 5 y 10 en 10, hacia adelante y hacia atrás, empezando por cualquier número menor que 100.
Números	del 0 al 20



Sres. Padres y Apoderados: Junto con saludarlos y esperando se encuentren bien junto a su familia. Solicito a ustedes apoyo para realizar estas guías de aprendizaje junto a su hijo/a.



1) Une con una línea los números con los objetos que corresponda.

The image shows a matching exercise for numbers 1 to 5. In the center, five shield-shaped boxes contain the numbers 1, 2, 3, 4, and 5. To the left, there are four groups of objects: four candies, three pencils, two buttons, and a pair of glasses. To the right, there are four groups of objects: two flowers, five diamonds, a comb, and three lollipops. The task is to draw lines connecting each number to the correct group of objects.












2) Cuenta los objetos de cada casillero y marca con una X el número correspondiente.

		
5	6	7
4	6	8











		
9	8	7
6	9	8

3) Cuenta y escribe el número

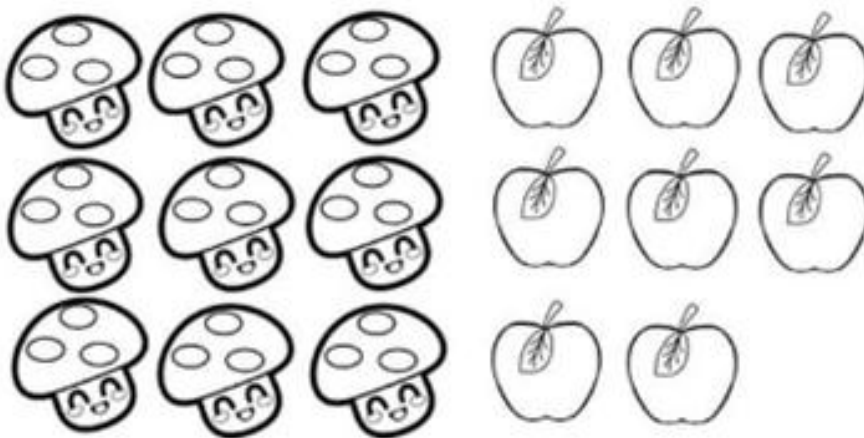
		
		
		



4) Cuenta y remarca los números.

	1	1	1	1	1
	2	2	2	2	2
	3	3	3	3	3
	4	4	4	4	4
	5	5	5	5	5
	6	6	6	6	6
	7	7	7	7	7
	8	8	8	8	8
	9	9	9	9	9
	10	10	10	10	10

5) Observa la imagen y responde las preguntas.



- 1.- ¿Cuántos hongos hay? _____
- 2.- ¿Cuántos manzanas hay? _____
- 3.- Ahora cuéntalos todos ¿Cuántos hay en total? _____