

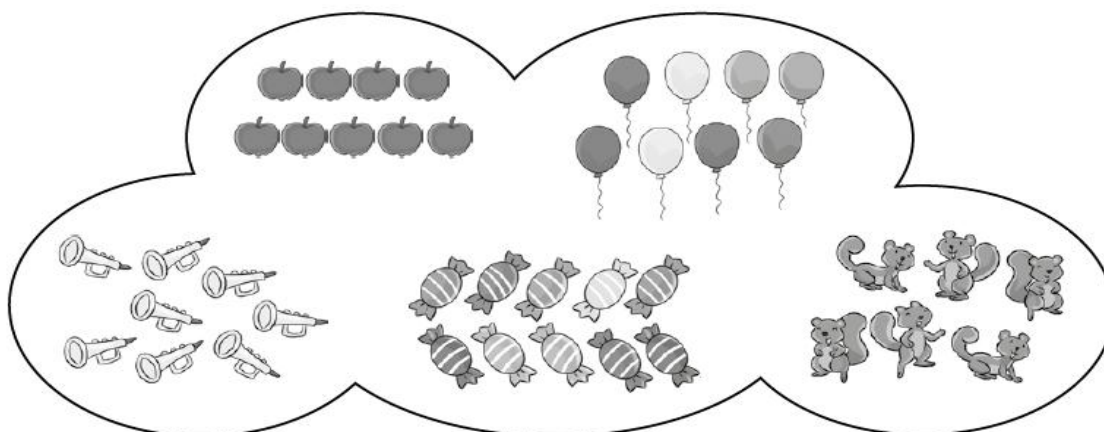
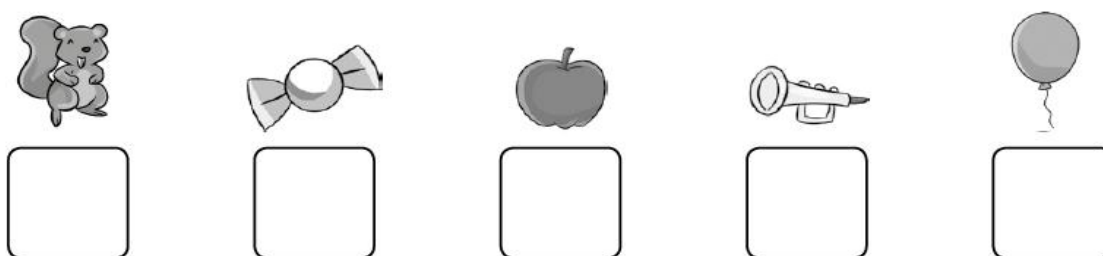


### Guía N°5 de Apoyo Pedagógico

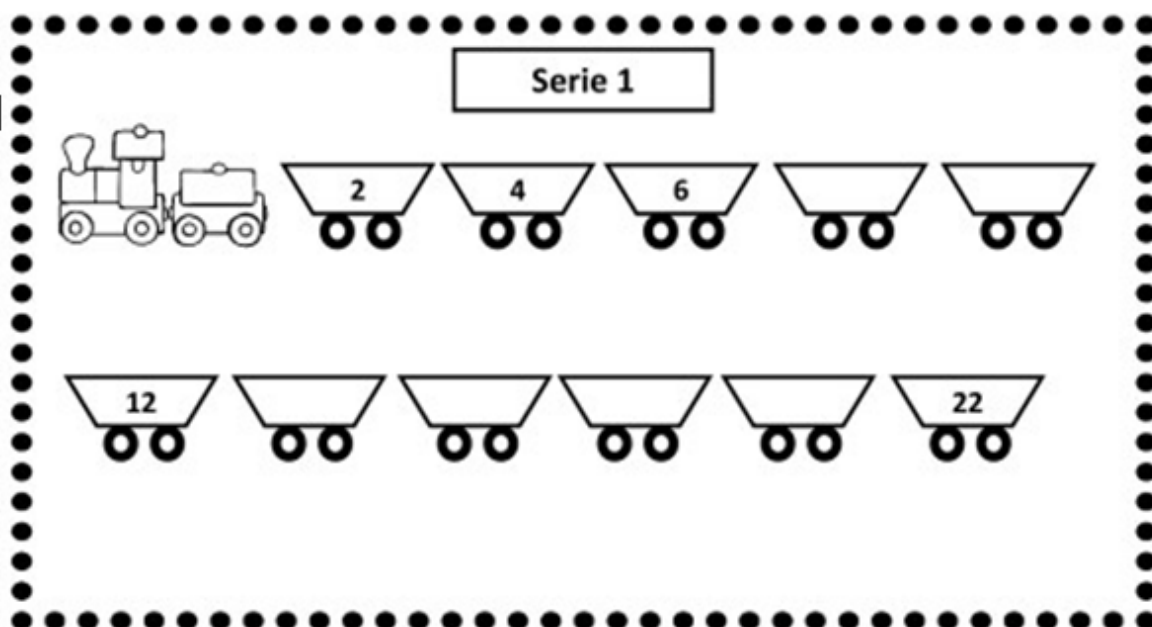
Asignatura	Matemática
Curso	1°Básico A
Profesoras	Angélica Atenas
OA	OA 1 Contar números naturales del 0 al 100, de 1 en 1, 2 en 2, 5 en 5 y 10 en 10, hacia adelante y hacia atrás, empezando por cualquier número menor que 100.
Números	del 0 al 20

#### Actividad

1.- ¿Cuántos hay? Cuenta y escribe el número correspondiente.



2.- Completa la serie con los números que faltan.


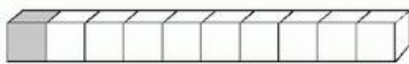




3.- Observa la imagen. ¿Cuántas orejas hay?

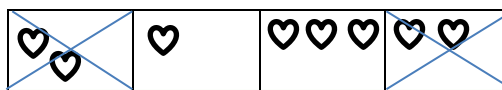


- Escribe tu resultado \_\_\_\_\_

4.- Pinta los cubos que faltan.

<p>a)</p> <p>6</p> 	<p>b)</p> <p>4</p> 
<p>c)</p> <p>5</p> 	<p>d)</p> <p>3</p> 

5.- Marca con una X los conjuntos que tienen la misma cantidad en cada caso. Ejemplo:



<p>a)</p> 			
<p>b)</p> 			
<p>c)</p> 			