



<b>INSTRUCCIONES PARA EL DESARROLLO DE LA GUÍA.</b>	1.- Lee atentamente las instrucciones de la guía.
	2.- Anota en tu cuaderno de Matemáticas el nombre de la guía, el objetivo de aprendizaje (OA) y las respuestas que consideres correctas.

<b>Asignatura</b>	Matemáticas SEP	<b>Nivel</b>	1° Básico
<b>Objetivo</b>	Identificar y comprender la importancia de la adhesión para obtener una cantidad total.	<b>OA N°</b>	06
<b>Objetivo de la guía</b>	Comprender el significado de la adición.	<b>Indicadores de Evaluaciones</b>	Componer y descomponer números del 0 a 20 de manera aditiva.

<b>N° de Guía:</b> 4	<b>Fecha:</b> 24 / 03 / 2020	<b>Nombre de la guía:</b> ¡Vamos a practicar la suma!
----------------------	------------------------------	---

**¡VAMOS A PRACTICAR!**



CUENTA CUÁNTOS OBJETOS HAY EN CADA CASO Y ANOTA SU CANTIDAD EN LOS ESPACIOS EN BLANCO. EN EL ÚLTIMO DE ELLOS OBTENDRÁS EL RESULTADO DE SU SUMA.

2 flowers + 3 flowers = 5 flowers

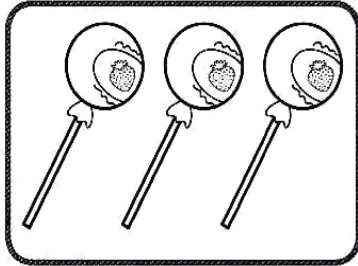

3 bees + 2 bees = 5 bees

4 mushrooms + 3 mushrooms = 7 mushrooms


3 scissors + 4 scissors = 7 scissors



SUMA SEGÚN CORRESPONDA LOS DISTINTOS ELEMENTOS QUE APARECEN DEBAJO Y COMPLETA CADA ESPACIO EN BLANCO CON EL RESULTADO OBTENIDO.



+




=




+





=




+



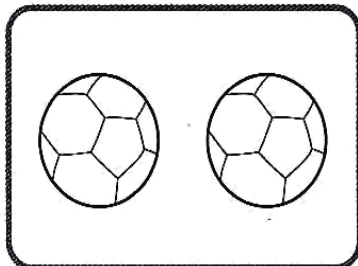
=



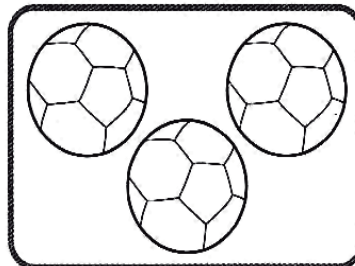
+



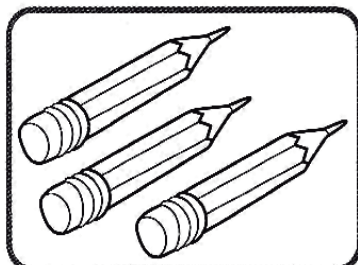
=




+



=



+



=

