



NOMBRE:.....








Asignatura	Matemática
Curso	1º C
Profesora	Vanessa Román
OA	OA1: Contar números del 0 al 10.
Clase	Nº4 día lunes 23 de marzo 2020

Señor apoderado cordiales saludos, a continuación se escriben pequeñas instrucciones para orientar a ordenar números, hacer correspondencia de números con objetos, a contar y así cumplir con el OA (objetivo de aprendizaje) en nuestros niños (as).





- Con la ayuda del apoderado el alumno debe contar y escribir al número correspondiente.

GUÍA Nº4
CONTAR NÚMEROS DEL 0 AL 10

Actividad 1 Cuenta y escribe el número correcto.

 →
 →
 →
 →
 →
 →
 →


Actividad 2 Colorea el número de objetos indicado.

5 → 
8 → 
2 → 
6 → 




NOMBRE:

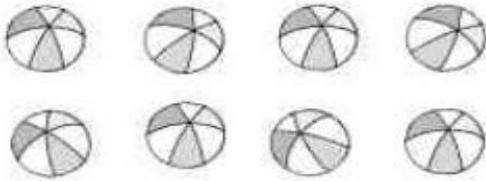
Actividad 3 Cuenta y rodea el número.




3 5 7




2 4 6



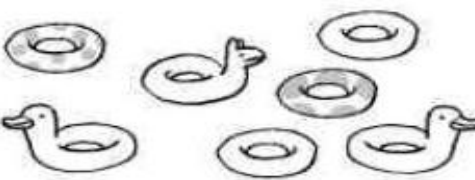
6 7 8



1 4 8



3 6 9




5 6 7

Actividad 4 Completa.


0 1 2 [] [] [] [] [] [] [] 9

9 8 7 [] [] [] [] [] [] [] 0


Actividad 5 Cuenta y escribe el número.



[]



[]



[]