

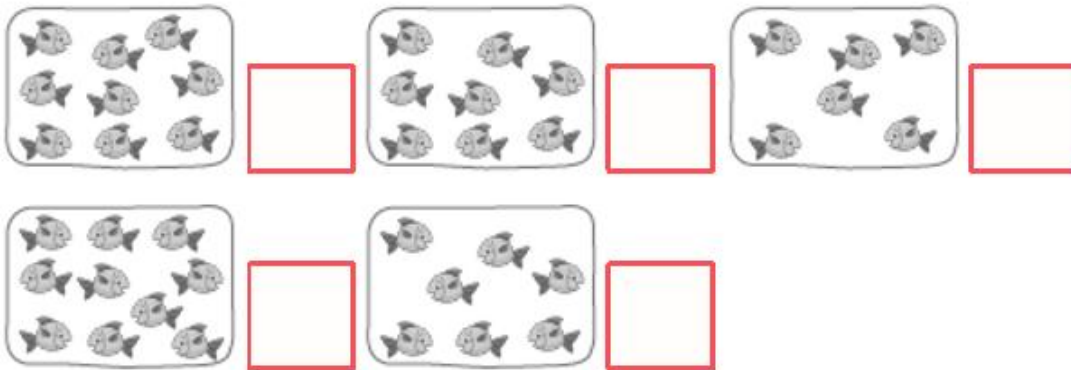


Guía N° 2


Asignatura	Matemática
Curso	1° D
Profesora	Dagnny Campos
OA	OA 1 Contar números naturales del 0 al 100, de 1 en 1, de 2 en 2, de 5 en 5 y de 10 en 10, hacia adelante y hacia atrás, empezando por cualquier número menor que 100.
Contenido en estudio	Trabajando hasta el número 10

Escribe tu nombre:

I.- Repasemos el conteo hasta el número 10. ¿Cuántos hay?

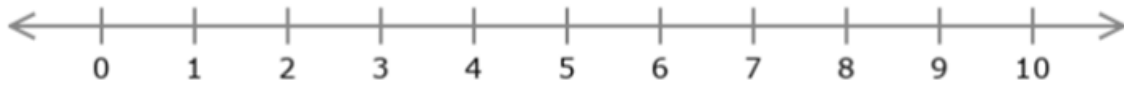


II.- Cuenta los puntos y une con el número que corresponda.





III.- Trabajemos con la recta numérica. Observa y cuenta de 1 en 1.



a. ¿Qué número aparece justo antes del 6?. Pinta tu respuesta con lápiz azul.

7 5 4

b. ¿Qué número viene después del 8?. Pinta tu respuesta con lápiz rojo.

9 7 6

IV.- Escribe el número que falta en las rectas numéricas.


a.



b.



c.





V.- Completa los espacios contando los cubos.

