

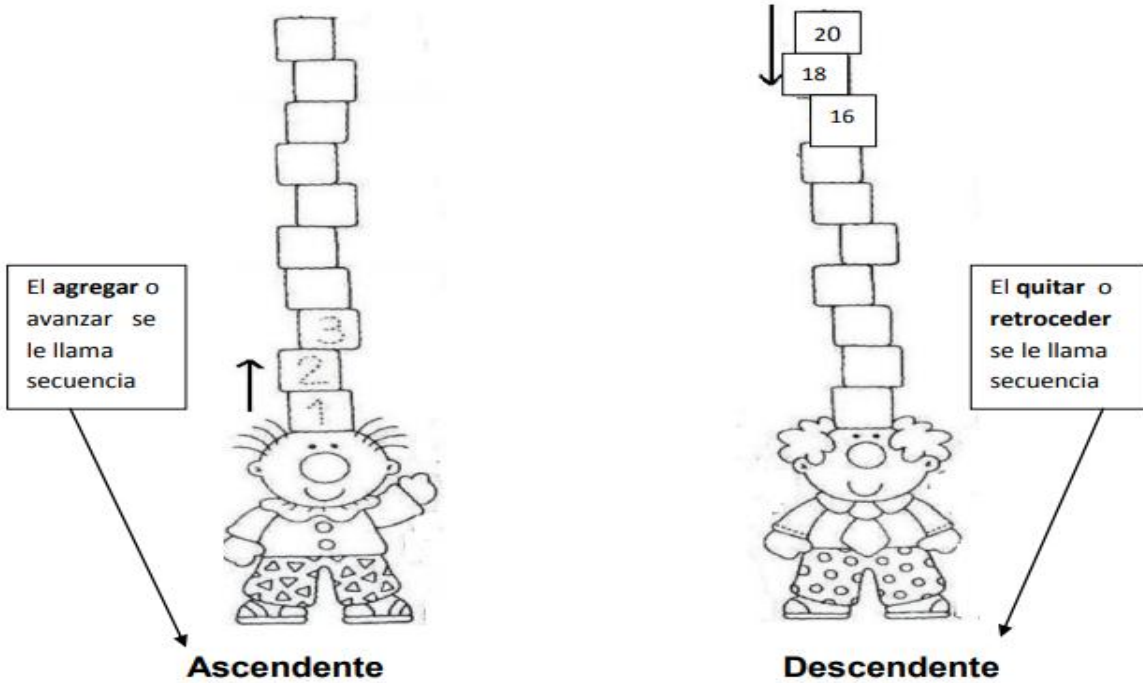


Guía N°3

Asignatura	Educación matemática
Curso	2°B
Profesora	Sandra Sepúlveda
OA.	OA: 01 Contar números del 0 al 1000 de 2 en 2 , de 5 en 5, de 10 en 10 y de 100 en 100, hacia adelante y hacia atrás, empezando por cualquier número menor que 1.000.


Escribe tu nombre completo. _____

Recordemos lo que es una secuencia Ascendente y Descendente. (Completa los números que faltan en la secuencia)



- Ascendente va desde lo más pequeño a lo más grande.
- Descendente de lo más grande a lo más pequeño.

1.- ¿Cuál de los niños está contando de forma descendente?



a)

b)

c)



2.- Ordena los siguientes números en forma descendente.

80	56	44	17	75	29	96
----	----	----	----	----	----	----


--	--	--	--	--	--	--

3.- Ordena los siguientes números en forma ascendente.

26	32	56	49	12	75	62
----	----	----	----	----	----	----

--	--	--	--	--	--	--

4.- Para vender limones en la feria la sra. María los ordeno así.



5.- ¿Cómo contó la señora María?

¿Cuántos limones hay en total?

6.- Noé hizo entrar en su arca a los animales de 2 en 2. Un día entraron estos animales:

2 gatos- 2 perros- 2 caballos – 2 chanchos – 2 burros – 2 ovejas – 2 – vacas 2 – canarios – 2 huemules y 2 cóndores.

7.- Escribe la secuencia en que entraron los animales:

8.- ¿Cuántos animales entraron en total?
