



Guía N° 5

Asignatura	Matemática
Curso	1° D
Profesora	Dagnny Campos
OA	(OA 1) Contar números naturales del 0 al 100, de 1 en 1, de 2 en 2, de 5 en 5 y de 10 en 10, hacia adelante y hacia atrás, empezando por cualquier número menor que 100.
Contenido	Contar hasta 50

Escribe tu nombre:

I.- Cuenta en voz alta hasta el número 50, en forma ascendente y descendente.

(Apoderado: **ascendente** comienza del número menor al mayor y **descendente** desde el número mayor al menor)

1	2	3	4	5	6	7	8	9	10
11	12	13	14	15	16	17	18	19	20
21	22	23	24	25	26	27	28	29	30
31	32	33	34	35	36	37	38	39	40
41	42	43	44	45	46	47	48	49	50

Trabaja en tu cuaderno

a.- Cuenta de forma ascendente de 2 en 2 comenzando por el número 2 pinta de verde los casilleros:

ej. 2-4-6

b.- Cuenta de forma descendente de 5 en 5 comienza desde el 50 y pinta de rojo los casilleros.

c.- Cuenta de forma ascendente de 10 en 10 comienza en el número 10 y pinta de azul los casilleros.



II.- Completa contando de forma ascendente.

a.-

2 4 6 [] [] []

14 [] [] 20 [] []


[] 28 [] [] []


[] [] [] []


[] [] 44 []




b.-

1 2 [] 3 [] 5 [] 8 [] 

 2 4 [] 8 10 [] 16

5 [] 9 11 [] 15 [] 19 

 3 [] 9 [] 18 [] 24