



Guía N° 6


Asignatura	Matemática
Curso	1° D
Profesora	Dagnny Campos
OA	(OA 3) Leer números del 0 al 20 y representarlos en forma concreta, pictórica y simbólica.
Contenido	Representar números

Escribe tu nombre:

1.-Trabaja en tu cuaderno esta actividad con un adulto.

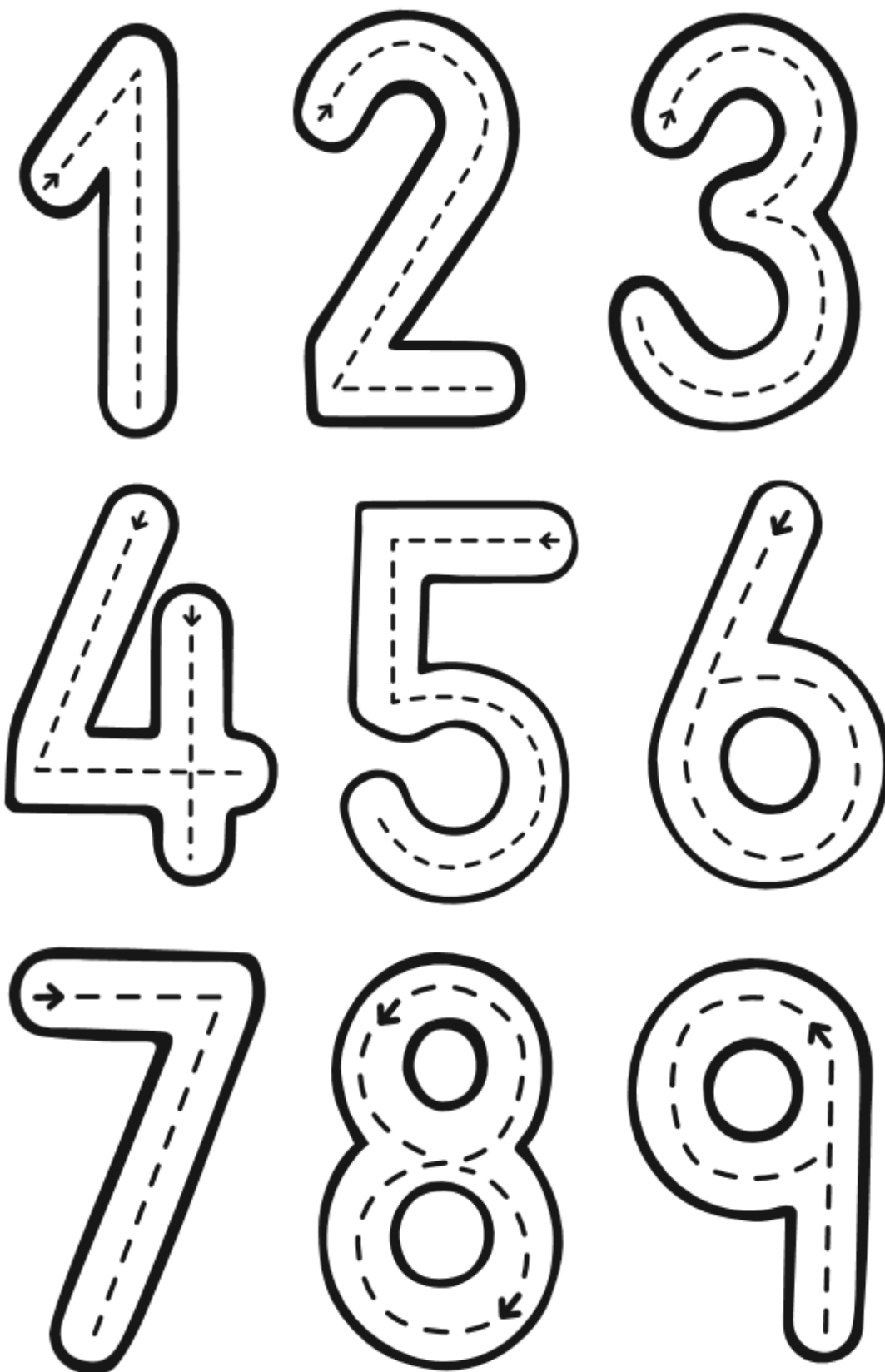
Sigue las instrucciones:

- Remarca el número siguiendo la flecha.
- Pinta del color que quieras.
- Ahora recorta y pega la cantidad de objetos que indica el número, también los puedes dibujar.
- Escribe su nombre.








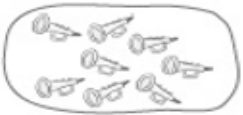

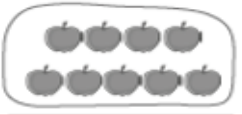



II.- Remarca los números y luego rellénalos con plastilina.






III.- Cuenta los objetos y escribe la cantidad.

 <table border="1" data-bbox="293 1035 597 1089"><tr><td></td><td></td><td></td><td></td><td></td></tr><tr><td></td><td></td><td></td><td></td><td></td></tr></table>											 <table border="1" data-bbox="662 1035 966 1089"><tr><td></td><td></td><td></td><td></td><td></td></tr><tr><td></td><td></td><td></td><td></td><td></td></tr></table>											 <table border="1" data-bbox="1027 1035 1331 1089"><tr><td></td><td></td><td></td><td></td><td></td></tr><tr><td></td><td></td><td></td><td></td><td></td></tr></table>										
 <table border="1" data-bbox="427 1266 730 1320"><tr><td></td><td></td><td></td><td></td><td></td></tr><tr><td></td><td></td><td></td><td></td><td></td></tr></table>											 <table border="1" data-bbox="805 1266 1109 1320"><tr><td></td><td></td><td></td><td></td><td></td></tr><tr><td></td><td></td><td></td><td></td><td></td></tr></table>																					
 <table border="1" data-bbox="298 1507 586 1606"><tr><td></td><td></td><td></td><td></td><td></td></tr><tr><td></td><td></td><td></td><td></td><td></td></tr></table>											 <table border="1" data-bbox="727 1507 1015 1606"><tr><td></td><td></td><td></td><td></td><td></td></tr><tr><td></td><td></td><td></td><td></td><td></td></tr></table>																					
 <table border="1" data-bbox="298 1753 586 1852"><tr><td></td><td></td><td></td><td></td><td></td></tr><tr><td></td><td></td><td></td><td></td><td></td></tr></table>											 <table border="1" data-bbox="727 1753 1015 1852"><tr><td></td><td></td><td></td><td></td><td></td></tr><tr><td></td><td></td><td></td><td></td><td></td></tr></table>																					



IV.- Completa la tabla.

Número	Palabra	Cantidad
1	uno	
	dos	
	tres	
4	cuatro	
	cinco	
	seis	
	siete	
	ocho	
9	nueve	
	diez	