




INSTRUCCIONES PARA EL DESARROLLO DE LA GUIA.	1.- Lee atentamente las instrucciones de la guía.
	2.- Anota en tu cuaderno de Matemáticas el nombre de la guía, el objetivo de aprendizaje (OA) y las respuestas que consideres correctas.

Asignatura	Matemáticas SEP	Nivel	2° Básico
Objetivo	Fortalecer el pensamiento y razonamiento lógico y el tratamiento de información.	OA N°	05
Objetivo de la guía	Mejorar estrategias didácticas que promuevan el pensamiento lógico y matemático.	Indicadores de Evaluaciones	Demstrar que comprenden la adición y la sustracción resolviendo problemas que involucren operaciones combinadas.

N° de Guía: 6	Fecha: 30 / 03 / 2020	Nombre de la guía: RESUELVE MÁS OPERACIONES
----------------------	------------------------------	--

1 José tenía 3 figuritas. Su amigo Joaquín le regaló 5 más, ¿cuántas figuritas tiene ahora José?



D	U

Respuesta _____

2 En la florería compré 7 rosas. Después compré 2 claveles. ¿Cuántas flores compré en total?



D	U

Respuesta _____

3 Francisca tenía 9 globos y se reventaron 3 globos. ¿Cuántos globos le quedaron a Francisca?



D	U

Respuesta _____

4 Emilia tenía 6 muñecas y regaló a su mejor amiga 2. ¿Cuántas muñecas le quedaron?



D	U

Respuesta _____

5 El colegio plantará 8 árboles en el patio. Si ya plantó 4, ¿cuántos faltan por plantar?




D	U

Respuesta _____



7

En un curso del colegio hay 16 niñas y 13 niños. ¿Cuántos alumnos son en total?



D	U

Respuesta _____

8

En un supermercado compré 36 huevos. sí había 4 huevos quebrados. ¿Cuántos están sin quebrar?



D	U

Respuesta _____

9

En bus hay 50 personas sentadas y 25 personas de pie. ¿Cuántas personas hay en el bus?




D	U

Respuesta _____

10

Josefina tenía 16 conejos y 11 se le perdieron en el campo. ¿Cuántos conejos le quedan a Josefina?



D	U

Respuesta _____

11

Diego invitó a 25 amigos a su cumpleaños. Pero 4 avisaron que no podían ir. ¿Cuántos amigos asistirán al cumpleaños?




D	U

Respuesta _____

12

Un heladero vendió 15 helados en la mañana y 13 en la tarde. ¿Cuántos helados vendió en total?



D	U

Respuesta _____