



INSTRUCCIONES PARA EL DESARROLLO DE LA GUÍA.	<p>1.- Lee atentamente las instrucciones de la guía, no olvides realizar el desarrollo para cada pregunta.</p> <p>2.- Anota en tu cuaderno de Matemáticas el nombre de la guía, el objetivo de aprendizaje (OA) y las respuestas que consideres correctas.</p>
---	--

Asignatura	Matemáticas SEP	Nivel	3° Básico
Objetivo	Fortalecer el pensamiento y razonamiento lógico y el tratamiento de información.	OA N°	06
Objetivo de la guía	Mejorar estrategias didácticas que promuevan el pensamiento lógico y matemático.	Indicadores de Evaluaciones	Demostrar que comprenden la adición y la sustracción resolviendo problemas que involucren operaciones combinadas.

N° de Guía: 6	Fecha: 30 / 03 / 2020	Nombre de la guía: Resolución de Problemas 4
----------------------	------------------------------	---

1 Lee atentamente y completa:

Un zapatero reparó 11 zapatos por la mañana y 12 por la tarde, ¿cuántos zapatos reparó en total?



Respuesta _____

D	U


En un baúl hay 54 libros, y la mamá de Pedro saca 15 para leerlos, ¿cuántos libros quedan en el baúl?



Respuesta _____

D	U

En el curso de Silvia hay 26 alumnos y el el curso de Pablo hay 32 alumnos, ¿cuántos alumnos hay en los dos cursos?



Respuesta _____

D	U

Una pizzería vendió 9 pizzas en la mañana y 15 por la tarde, ¿cuántas pizzas vendió en total?



Respuesta _____

D	U

En el parque hay 12 niños jugando y llegan 4 más, ¿cuántos niños hay en total?




Respuesta _____

D	U



En un árbol hay 28 manzanas, 12 se cayeron, ¿cuántas manzanas quedaron en el árbol?



Respuesta _____

D	U

En un árbol hay 12 palomas. 9 se fueron volando. ¿Cuántas palomas quedaron en el árbol?



Respuesta _____

D	U


Raúl tiene 12 huevos y usa 6 para hacer una torta, ¿con cuántos huevos se queda Raúl?



Respuesta _____

D	U


Camilo cosechó 50 zanahorias y 20 papas, ¿cuántas verduras cosechó Camilo?



Respuesta _____

D	U

Luis tiene 6 conejos y el año pasado nacieron 24 conejos más. ¿Cuántos conejos tiene Luis en total?



Respuesta _____

D	U

En segundo E hay 32 alumnos, 13 son niños y el resto son niñas, ¿cuántas niñas hay en el segundo E?



Respuesta _____

D	U
