



Guía N° 2

Curso	2º Básico C
Asignatura	Educación Matemática.
Profesora	Constanza González Zambrano.
OA	OA 7 Identificar las unidades decenas en números del 0 al 100, representando las cantidades de acuerdo a su valor posicional, con material concreto, pictórico y simbólico.
Fecha	Semana del 11 al 15 de Mayo

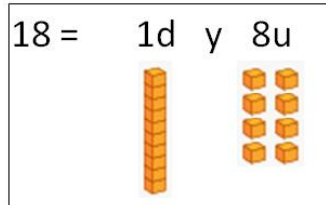

Escribe tu nombre:

Instrucciones: Responde la guía con ayuda de un adulto, la puedes realizar directamente en tu cuaderno o si la imprimiste recuerda que la debes pegar en el cuaderno de la signatura.

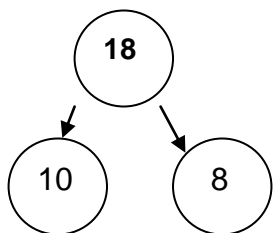
Unidades y Decenas

Queridos alumnos, está semana, en matemática seguiremos reforzando y reconociendo unidades **U** y decenas **D** de los números.

Observa el ejemplo, recordemos lo que aprendimos la clase anterior. **Ver el video en YouTube.**



Esta semana ocuparemos otra estrategia para descomponer las cifras: ver ejemplo



18 es igual que 1Decena y 8Unidades.

$$18 = 1D + 8U$$

$$10 + 8 = 18$$

Ahora intenta hacer tú Trabaja en tu cuaderno como el ejemplo.

<p>1)</p>	<p>2)</p>
<p>3)</p>	<p>4)</p>

Recuerda enviar tus ejercicios resueltos a profesora