

GUÍA DE HISTORIA, GEOGRAFÍA Y CS. SOCIALES CUARTO BÁSICO "E" (04 de mayo al 08 de mayo)

Nombre: Curso:

OA 8: Describir distintos paisajes del continente americano, considerando climas, ríos, población, idiomas, países y grandes ciudades, entre otros, y utilizando vocabulario geográfico adecuado.

AMÉRICA Y SUS PAISAJES

Ubico américa en el mundo:

América es un continente de gran extensión territorial y de enorme diversidad natural y cultural. En América se ubica parte importante del territorio chileno.

Este continente se sitúa en el hemisferio occidental y está formada por dos grandes masas de tierra, unidas por un territorio central, junto al cual, hay un conjunto de islas que rodean el mar Caribe.

Considerando sus características físicas, este continente ha sido dividido en tres grandes regiones geográficas: América del Norte, América Central y el Caribe y América del Sur.



1. Pinta cada continente de un color distinto, para los océanos utiliza sólo azul o celeste.

2. El océano que se ubica en la costa este de América es:

R: _____

3. América se divide en tres regiones geográficas llamadas:

R: _____

4. Los continentes que se ubican al este de América son:

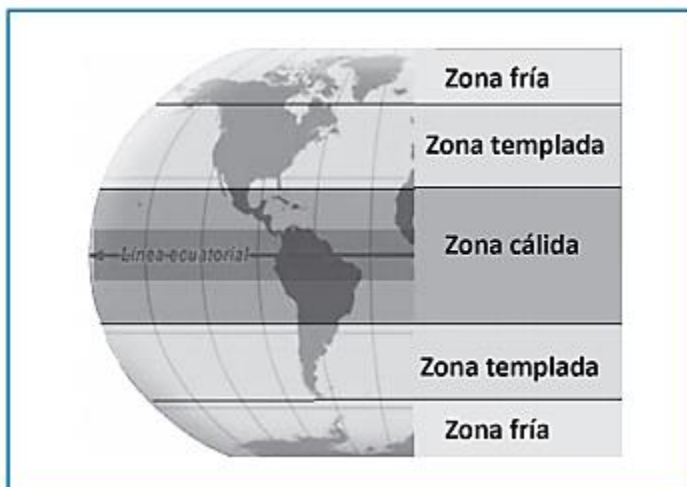
R: _____

Observa en youtube el siguiente link:

<https://www.youtube.com/watch?v=jD88dCaIFDI>

IDENTIFICO CARACTERÍSTICAS NATURALES DE AMÉRICA


En el territorio de América, es posible encontrar paisajes asociados a las distintas zonas climáticas de la Tierra, es decir, la zona cálida, las zonas templadas y las zonas frías, lo que influye de modo importante en sus temperaturas, precipitaciones y vegetación.




CLIMAS CÁLIDOS O TROPICALES

Presentes principalmente al interior de la zona cálida. Se caracteriza por sus altas temperaturas y abundantes precipitaciones.

LA SELVA: Se ubican en las tres regiones americanas. Presentan abundantes lluvias y altas temperaturas, lo que ha permitido que en ellas exista la mayor diversidad de vida animal y vegetal.



LA SABANA: Está presente solo en América del Sur. Corresponde a una extensa llanura donde crecen árboles bajos y abundante hierba.



Mapa climas cálidos

1. ¿Cuáles son las principales características de la selva?

R: _____

2. ¿Cuáles son las principales características de la sabana?

R: _____ }