



Guía N° 7

Cursos	Primeros Básicos A-B-C-D-E
Asignatura	Educación Matemática
OA	OA6 Componer y descomponer números del 0 al 20 de manera aditiva, en forma concreta, pictórica y simbólica.
Fecha	Semana del lunes 15 a Viernes 19 de Junio

Nombre: _____

Descomponer y Componer Números

Activamos conocimientos previos

Actividad N°1: Representa los números según el modelo, debes completar de manera concreta, pictórica y simbólica.

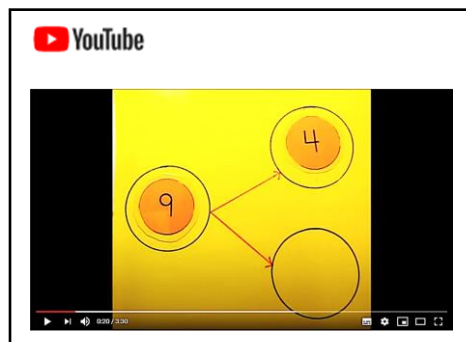
Representación concreta	Representación pictórica	Representación simbólica			
		<table border="1"><tr><td>5</td></tr><tr><td>Y se lee:</td></tr><tr><td>cinco</td></tr></table>	5	Y se lee:	cinco
5					
Y se lee:					
cinco					
		<table border="1"><tr><td></td></tr><tr><td>Y se lee:</td></tr><tr><td>_____</td></tr></table>		Y se lee:	_____
Y se lee:					

		<table border="1"><tr><td></td></tr><tr><td>Y se lee:</td></tr><tr><td>_____</td></tr></table>		Y se lee:	_____
Y se lee:					

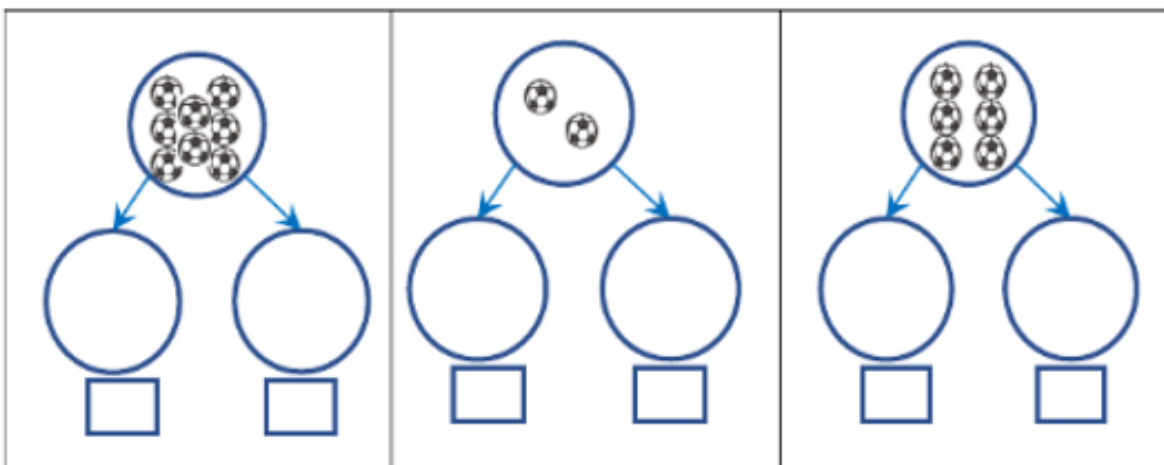
		<table border="1"><tr><td>9</td></tr><tr><td>Y se lee:</td></tr><tr><td>_____</td></tr></table>	9	Y se lee:	_____
9					
Y se lee:					

Actividad N°2: Te invito a ver el siguiente video.

https://youtu.be/WZikAU_cNYk

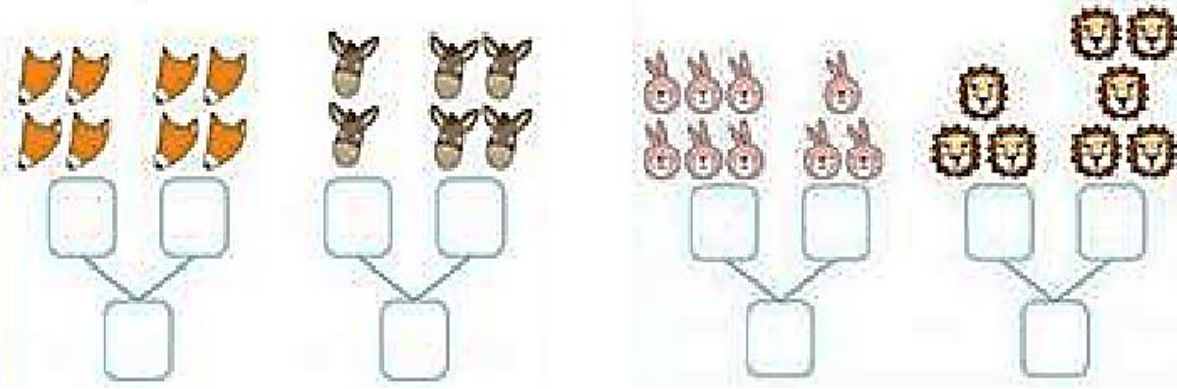


- Descompone la representación concreta y luego simbólica.

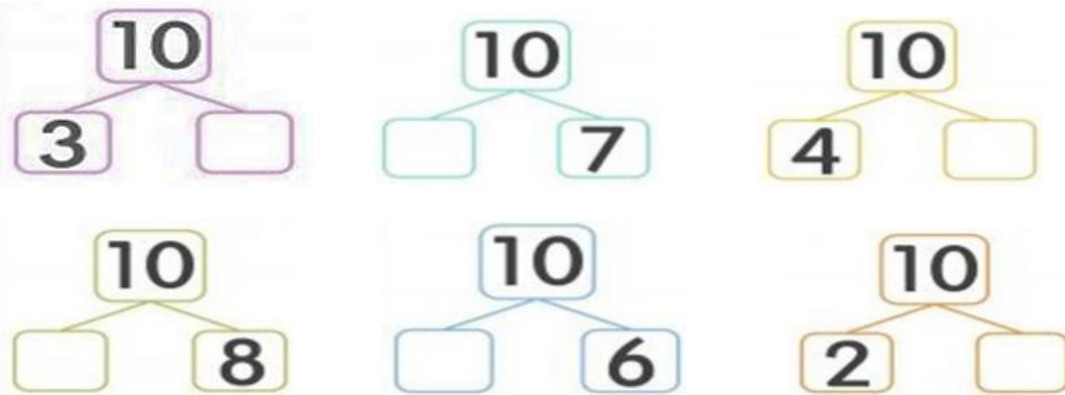





- Observa, cuenta y componer de manera simbólica.



Actividad N°2: Descubre el dígito que falta para componer el número 10.



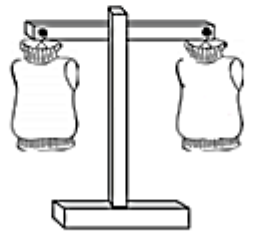
Actividad N°3: Observa las balanzas, cuenta y escribe la el número que falta para componer el número 20.



$$\boxed{12} + \underline{\quad}$$



$$\underline{\quad} + \boxed{14}$$



$$\underline{\quad} + \boxed{10}$$

Actividad N°4: Trabaja en tu texto del estudiante páginas 27, 28, 29 y 30.
Cuaderno de Actividades página 15.