



Nombre: _____

Curso: _____

**INSTRUCCIONES PARA EL
DESARROLLO DE LA GUIA.**

- 1.- Para saber como resolver tu guía, revisa el canal de YouTube del colegio, en la sección listas de reproducción y busca tu curso.
- 2.- Lee atentamente las instrucciones de la guía.
- 3.- Anota en tu cuaderno de Matemáticas el nombre de la guía, el número del objetivo de aprendizaje (OA) y las respuestas que consideres correctas.

Asignatura	Matemáticas SEP	Nivel	1° Básico
Objetivo	Identificar y comprender la importancia de la adición y sustracción para obtener una cantidad total.	OA N°	09
		Correo donde debe enviar esta guía	sep.matematicas.cefa@gmail.com
Objetivo de la guía	Demostrar que comprenden el significado de la adición y la sustracción.	Indicadores de Evaluaciones	Demostrar que comprenden la adición y la sustracción de números del 0 al 20 progresivamente, de 0 a 5, de 6 a 10, de 11 a 20 con dos sumandos

N° de Guía: 14

Fecha: 30 al 03 de julio 2020


Nombre de la guía: Consigna 8

1 Observa la tabla numerada y usala para realizar los cálculos en cada ejercicio.

1	2	3	4	5	6	7	8	9	10
---	---	---	---	---	---	---	---	---	----


Para usar la tabla, debes posicionarte en el número que se señala en la pregunta. Si es una suma, debes avanzar la cantidad de espacios que se te indique, pero si es una resta debes retroceder la cantidad de espacios que se te señale.

1.- Hay 8 niños jugando en el parque y 2 se van. ¿Cuántos niños quedan en total?



D	U
-	

2.- Hay 5 niños jugando a la pelota, y llegan 2 más, ¿cuántos niños hay en total?




D	U
+	




2 Ahora tú...

3.- Hay 5 patos en el lago y llegan 3 más. ¿Cuántos patos hay en el lago?



	D	U

4.- Hay 8 manzanas en un árbol y se caen 2, ¿cuántas manzanas quedan en total?



	D	U

5.- Hay 8 gaviota en las rocas y se van 5. ¿Cuántas gaviotas quedán en total?



	D	U