



Guía N° 6

Cursos	Segundos Básicos A – B – C – D
Asignatura	Historia, Geografía y Ciencias Sociales.
OA	OA8 Clasificar y caracterizar algunos paisajes de Chile observando imágenes, y utilizando diversas fuentes y un vocabulario geográfico adecuado.
Fecha	Semana del lunes 08 al viernes 12 de Junio.

Escribe tu nombre: _____


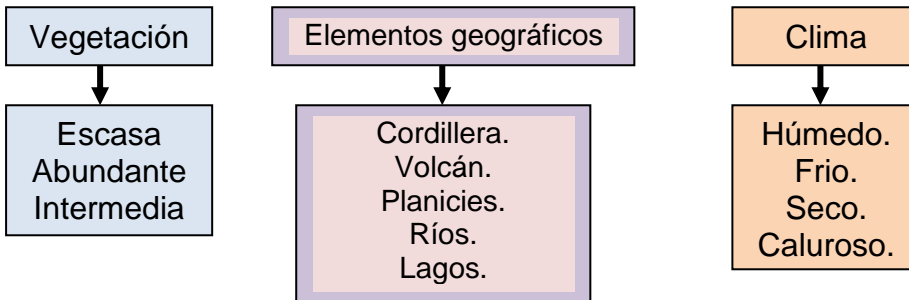


Recordemos lo que vimos la semana pasada.
Chile tiene zonas naturales y cada una de ellas con características particulares como el clima, cantidad de vegetación, fauna, etc.

Haz clic en el mapa te invito a conocer las características de las zonas de Chile mediante sus bellos paisajes y luego **responde las actividades en tu cuaderno.**




Para reconocer la zona de cada paisaje debes considerar:




1. ¿A qué zona de Chile pertenece este paisaje?

- a) Zona Sur.
- b) Zona Norte.
- c) Zona Central.



- 2. ¿Cómo es el clima y la vegetación en la zona norte de Chile?
- 3. ¿Por qué la llama habita el norte de Chile?




4. ¿Cuál de estos paisajes pertenece a la Zona Central de Chile?



5. ¿En qué zona se encuentra la ciudad de Santiago y Viña del Mar?



6. ¿Cómo es el clima y la vegetación en la zona sur de Chile?
7. ¿Cuál de estos animales vive en la zona sur de Chile? ¿Por qué sobrevive allí?

		
Llama	Pájaro carpintero	Pingüino emperador

Lee: “Esta es la Patagonia de Chile.
En su mayoría los territorios se cubren de hielo y nieves eternas. El **clima** es húmedo con precipitaciones todo el año y temperaturas bajas.



8. ¿A qué zona de Chile pertenece esta descripción?



Ahora conoceremos otra características lee cada definición junto con tu profesora y une con la imagen que corresponda.

Isla

Es una porción de tierra rodeada de agua.

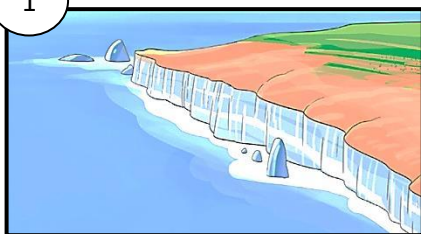
Archipiélago

Es un conjunto de islas en el océano.

Acantilado

Es un borde costero de pendiente abrupta.


1



2



3



¿Sabías qué?

Chile posee un lugar con clima y paisaje tropical, esta es la isla de Rapa Nui. La isla tiene una forma de triángulo y en cada vértice o punta se ubica un volcán inactivo.



Tarea: Lee la página 40 de tu libro de Historia, observa las imágenes y luego responde en tu cuaderno las preguntas 1 y 2