



## Guía N° 7

Curso	Segundo Básico A.B.C.D.
Asignatura	Historia , Geografía y Ciencias Sociales,
OA	<b>OA 8</b> Clasificar y caracterizar algunos paisajes de Chile observando imágenes, y utilizando diversas fuentes y un vocabulario geográfico adecuado.
Fecha	Semana del lunes 15 al viernes 19 de Junio

Escribe tu nombre:

---

**Instrucciones:** responde la guía con ayuda de un adulto, si no puedes imprimirla realízala directamente en tu cuaderno, si la imprimiste recuerda pegarla en tu cuaderno.

### Paisajes de Chile




Queridos alumnos esta semana, aprenderemos un poco más a cerca de los paisajes de Chile y los elementos que lo componen, como: montañas, cordillera, planicies, ríos, lagos y océanos.

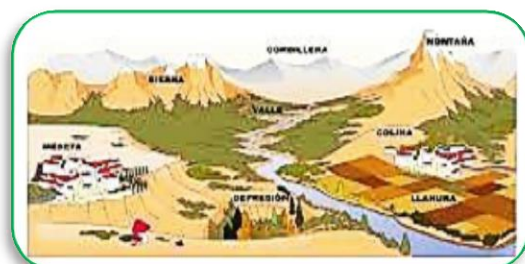
#### **Actividad N°1** ¡Activando mis conocimientos!

Responde:

- 1) ¿En qué continente se encuentra Chile?
- 2) ¿Cómo se llama el océano de baña las costas chilenas?
- 3) Une con una línea el paisaje a la zona que corresponde:



**Actividad N°2** para conocer más sobre nuestro bello país y su geografía te invito a ver este video educativo: haz clic en la imagen.





- Según lo aprendido recorta y pega en el mapa de Chile las imágenes.
- **Dibuja la cordillera de los Andes** en todo el territorio chileno.



- Conoce a la ranita de Darwin y contesta:

La ranita de Darwin está en peligro de extinción por la pérdida de su hábitat por causa de la degradación del bosque nativo producto de la tala, pastoreo e incendios. Viven en los bosques centenarios que se encuentran en la:




**Actividad N°3** ¿Cuál de los paisajes corresponde a uno de la zona norte de Chile?


a) Palafitos de Chiloé



b) Moais de isla de Pascuas



c) Desierto de Atacama



**Actividad N°4** Te invito a trabajar en tu texto de estudio en la página 41.