

Guía de Actividades Nº 7: Tiempos Primitivos

OBJETIVOS DE APRENDIZAJE

Explicar el proceso de hominización, reconociendo las principales etapas de la evolución de la especie humana, la influencia de factores geográficos, su dispersión en el planeta y las distintas teorías del poblamiento americano.

Explicar que el surgimiento de la agricultura, la domesticación de animales, la sedentarización, la acumulación de bienes y el desarrollo del comercio, fueron procesos de larga duración que revolucionaron la forma en que los seres humanos se relacionaron con el espacio geográfico.


1. Observa el mapa y escribe la letra que corresponde a cada elemento solicitado.



A world map with letters A through K marking various continents and oceans. A legend on the right lists the following elements:

- África
- América
- Antártica
- Asia
- Europa
- Oceanía
- Océano Ártico
- Océano Atlántico
- Océano Austral
- Océano Índico
- Océano Pacífico
- Mar Mediterráneo

2- Observa atentamente la siguiente imagen:



- De acuerdo a la imagen anterior, la Evolución Humana posee el siguiente orden:

- a- Australopitecus, Homo erectus, Homo Habilis, Homo Neanderthal
- b- Australopitecus, Homo, Neanderthal Homo Habilis, Homo Sapiens Sapiens
- c- Australopitecus, Homo Habilis, Homo Erectus, Homo Neanderthal, Homo Sapiens Sapiens
- d- Australopitecus, Homo Neanderthal, Hombre de Cromagnon, Homo Sapiens Sapiens

3- Responde las siguientes preguntas

a-¿Qué relación tiene la agricultura con el aumento de la población?


b-¿Por qué el descubrimiento de la agricultura permitió el desarrollo de nuevas actividades artesanales y de sacerdotes o chamanes?

c-¿Por qué una sociedad recolectora, que vive de la pesca, caza y recolección, lleva una vida nómada?

d-¿Qué relación existe entre la invención del arado y la posibilidad de contar con excedentes agrícolas?

e-Nombra en forma ordenada los tipos de hombre anteriores al hombre actual, que conforman el proceso de hominización o de evolución humana.

4- Observa las ilustraciones. Luego responde.



a. ¿A qué período histórico asocias la imagen de arriba?

---




---

b. ¿A qué período histórico asocias la imagen de abajo?

---



---



c. ¿Qué diferencias observas entre ambas imágenes? Señala 2.

---



---



---

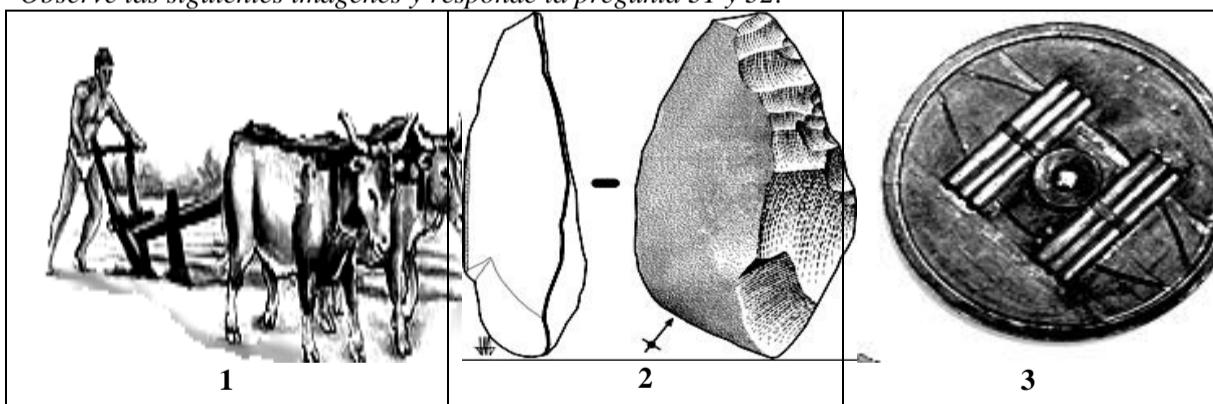


---

5- Ordena los continentes desde el primero al último en ser poblado por el ser humano: Europa- Asia- América – Oceanía- África

6- Señala las rutas que siguieron los hombres primitivos para poblar América

Observe las siguientes imágenes y responda la pregunta 31 y 32:



31.- La Edad de los Metales se caracteriza por presentar adelantos tecnológicos que permitieron cada vez más facilitar la vida en la prehistoria. De acuerdo a las imágenes, ¿cuál o cuáles de las siguientes imágenes corresponderían a la Edad de los Metales?

a) Sólo 1

b) 1 y 2

c) 1 y 3

d) Ninguna de las anteriores