



Guía N° 15







Curso	Primero Básicos A-B-C-D-E
Asignatura	Ed. Matemática
OA	OA9 Demostrar que comprenden la adición y la sustracción de números del 0 al 20. OA 11 Reconocer, describir, crear y continuar patrones repetitivos
Desempeño	2 Resuelven problemas que involucran sumas o restas en el ámbito hasta 20 en contextos familiares. 1. Identifican y describen patrones repetitivos que tienen de 1 a 4 elementos
Fecha	Semana del lunes 24 al viernes 28 de Agosto.

SUSTRACCIONES

ACTIVO MIS CONOCIMIENTOS Desarrolla las siguientes sustracciones en la recta numérica.

- Resuelve los siguientes cálculos, tacha la cantidad de pelotas que debes eliminar.

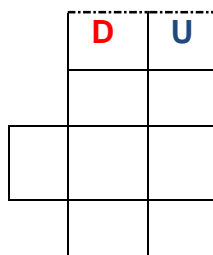
Escribe el resultado.

<p>1</p>  <p>$10 - 5 = \square$</p>	<p>2</p>  <p>$10 - 8 = \square$</p>
<p>3</p>  <p>$10 - 2 = \square$</p>	<p>4</p>  <p>$10 - 6 = \square$</p>
<p>5</p>  <p>$10 - 4 = \square$</p>	<p>6</p>  <p>$10 - 7 = \square$</p>

- Desarrolla los siguientes problemas matemáticos.

En una piscina hay 16 niños y salen 12 ¿Cuántos niños quedan en la piscina?

Debo: _____



Respuesta:





PATRONES

Un **patrón** es el ordenamiento de elementos que se construye siguiendo una regla, esa regla puede ser de colores, formas, imágenes y números etc.


Actividad N°1 Te invito a ver el video educativo para comprender mejor los patrones
<https://www.youtube.com/watch?v=-98FQIUVR84>


- Observa estos patrones:

1)  color
Patrón repetitivo= manzana roja, manzana azul.

2)  imagen
Patrón repetitivo= _____

- Se pueden repetir 2 o más elementos, observa los siguiente ejemplo.

1 

2 

- El patrón del ejemplo 1: es estrella naranja y una estrella azul.
- ¿Cuál es el patrón del N°2? _____

Completa el patrón:



¿A qué tipo de repetición corresponde el patrón?

- a) Color.
- b) Forma.
- c) Tamaño.

- Sigue la instrucción y crea el patrón:

Patrón de color: Pinta 1 estrella roja y dos verdes



Patrón de forma: dibuja un círculo y dos cuadrados (repetir dos veces)

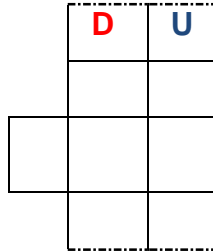


Ticket de salida

Resuelve los problemas

1) En una piscina hay **18** niños y salen **7** ¿Cuántos niños quedan en la piscina?

Debo: _____



Respuesta

2) Completa el patrón de color: rojo-azul-verde



3) Completa el patrón de forma: (repetir 3 veces)



Enviar ticket de salida a tu profesora