



Guía N° 16

Cursos	Segundos Básicos A – B – C – D
Asignatura	Educación Matemática.
OA	OA9 Demostrar que comprenden la adición y la sustracción en el ámbito del 0 al 100. OA 11. -Demostrar que comprende la multiplicación: usando representaciones concretas y pictóricas.
Desempeños	1.-Cuentan diferentes situaciones cotidianas donde reconocen que necesitan agregar o quitar elementos. 2.- Expresan una multiplicación como la adición de sumandos iguales. . 3.-Resuelven problemas que involucran las tablas del 2, el 5 y el 10, utilizando la estrategia de ensayo y error.
Fecha	Semana del lunes 31 de agosto al viernes 11 de septiembre.

Nombre completo: _____

La multiplicación o suma reiterada

La multiplicación es lo mismo que sumar el mismo número varias veces y el signo es “x” o “•” observa el ejemplo:


$2+2+2+2+2+2 = 12$
6 veces el 2 = 12
$6 \times 2 = 12$ multiplicación
$6 \bullet 2 = 12$




Actividad N°1 te invito a ver el video y realizar las multiplicaciones

<https://www.youtube.com/watch?v=GrWoS0gVUfg>

1. Resuelve y completa:



..... + + =
3 veces 3 =
3 • 3 =



..... + =
2 veces 4 =
2 • 4 =



2.



..... + + + + =


..... veces =

..... • =

3.



Compré 2
bolsas con 5
panes cada una



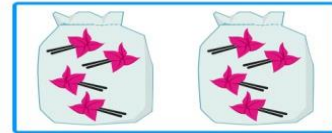
..... + =

..... veces =

..... • =



Compré 2
bolsas con 4
pinches cada una



..... + =

..... veces =

..... • =

4. Completa la tabla:

Adición	Nº de veces	Multiplicación	Producto
2+2+2+2		4 • 2	
5+5	2 veces 5		
1+1+1+1+1			6

Actividad Nº 2 resuelve los problemas

A.-Pedro tiene muchas canicas, para poder jugar con sus 6 amigos les reparte 2 a cada uno. ¿Cuántas bolitas repartió Pedro?



--	--	--	--	--	--

- Adición: _____
- Número de veces: _____
- Multiplicación: _____ Producto: _____



B.- El lechero del barrio deja 3 botellas de leche por casa, mi pasaje tiene 6 casas ¿Cuántas botellas deja en mi pasaje?





--	--	--	--	--	--

- Adición: _____
- Número de veces: _____
- Multiplicación: _____ Producto: _____

Ticket de salida

Resuelve los ejercicios

1)



..... + + + + =

..... + + + =

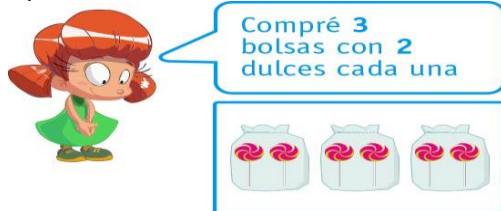
..... veces =

..... veces =

..... • =

..... • =

2)



..... + + =

..... + =

..... veces =

..... veces =

..... • =

..... • =

3) En mi familia somos 5 hermanos, el papá nos compró 10 bombones para cada uno. ¿Cuántos bombones compró papá en total?



--	--	--	--	--

- Adición: _____
- Número de veces: _____
- Multiplicación: _____ Producto: _____