



### GUÍA N° 16 REFORZAMIENTO

Curso	Primeros Básicos A- B- C- D- E
Asignatura	Historia, Geografía y Ciencias Sociales.
OA	<b>OA 2:</b> Secuenciar acontecimientos y actividades de la vida cotidiana, personal y familiar. <b>OA9</b> Identificar a Chile en mapas, incluyendo la cordillera de los Andes, el océano Pacífico, la ciudad de Santiago, su región, su capital y su localidad.
Fecha	Semanas del Lunes 21 de septiembre hasta el 02 de octubre.

Nombre: \_\_\_\_\_ Curso: \_\_\_\_\_



### SECUENCIA TEMPORAL

**Recordemos que una secuencia temporal implica un orden de elementos que requieren presentarse uno detrás de otros.**

**Actividad N°1** Responde las preguntas:


• Observa cada acción y ordena cronológicamente del 1 al 4.

**A)**



**B)**








• Encierra en un círculo la actividad en la que te demoras **más** tiempo.



ducharse



lavarse las manos



bañarse en tina


• Une cada acción con el momento en que se **debe** realizar.

Lavarse los dientes	Mañana
Dormir	Tarde
Hacer las tareas	Noche
Almorzar	
Jugar	

• Camila hoy está de cumpleaños, observa la torta:

1) ¿Cuántos años tenía el año pasado? \_\_\_\_\_

2) ¿Cuántos años tendrá el próximo año? \_\_\_\_\_





### CHILE

Como suelen decir, Chile es una larga y angosta faja de tierra. No obstante, es capaz de albergar todo tipo de climas, lo que permite que disfrutemos desde el desierto más árido del mundo en el norte, hasta hielos eternos en el sur.

Actividad Nº2 Responde:

1.- ¿Cómo es Chile?

<b>a</b>	<b>b</b>	<b>c</b>

2.- ¿En qué lugar de Chile se ubica esta imagen?

- a) Sur de Chile
- b) Norte de Chile
- c) Oeste de Chile



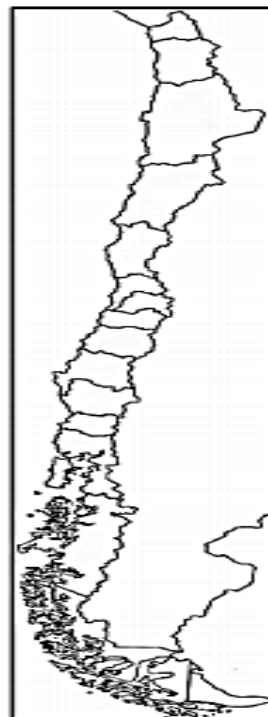
Actividad Nº 3:

- a) Observa el mapa, escribe sobre la línea su nombre.
- b) Ubica Chile pintándolo de rojo.
- d) Dibuja un barco en el océano pacífico.
- e) Hace una cruz en Argentina el país vecino de Chile.



Actividad Nº4

1.- Pinta todo Chile amarillo.
2.- ¿Cómo se llama la capital de Chile? Encierra San Antonio                  Valparaíso                  Santiago
3.- Pinta la región metropolitana de color rojo.
4.- Pinta azul el océano pacífico.



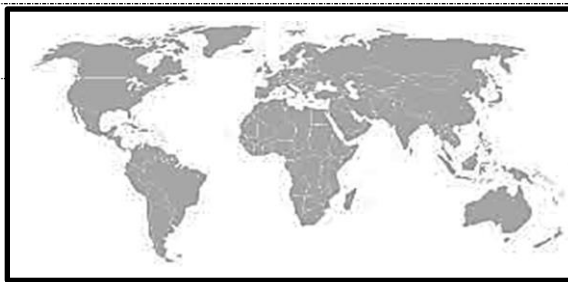


**Ticket de salida**

Responde las preguntas

1.- ¿Identifica América del Sur en este planisferio? Encierra en un círculo.

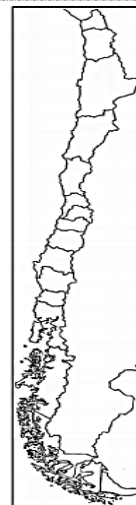
2.-Hace una bandera donde está Chile.



3.- ¿Qué país representa el mapa? \_\_\_\_\_

4.-Pinta el océano pacífico azul.

5.- Pinta rojo la región Metropolitana Santiago.



Hoy está de cumpleaños Paz. Observa la torta y responde preguntas.

6.-¿Cuántos años tenía el año pasado? \_\_\_\_\_

7.-¿Cuántos años tendrá el próximo año? \_\_\_\_\_



8.- **ANTES** de comer una manzana ¿Qué debes hacer?

- a) Lavarte los dientes.
- b) Cortar la manzana en cubitos.
- c) Lavar la manzana.

**Envía a tu profesora tu ticket de salida.**