



Guía N° 16 REFORZAMIENTO

Curso	Segundos Básicos A.B.C.D.
Asignatura	Historia, Geografía y Ciencias Sociales.
OA	<p>OA14.- Conocer, proponer, aplicar y explicar la importancia de algunas normas necesarias para: cuidarse, cuidar a otros y evitar situaciones de riesgo.</p> <p>OA8 Clasificar y caracterizar algunos paisajes de Chile observando imágenes, y utilizando diversas fuentes y un vocabulario geográfico adecuado.</p>
Fecha	Semana del lunes 21 de septiembre al viernes 02 de octubre

Nombre: _____

Normas de convivencia

Normas de convivencia en la comunidad

*“Las **normas de convivencia** ayudan a prevenir conflictos entre los miembros de un grupo o **comunidad**, pues estos, al sembrar la hostilidad, amenazan el bienestar de la vida cotidiana, dificultan el desarrollo de las metas sociales y pueden, incluso, propiciar desenlaces trágicos e irreparables.”*






Responde

1) ¿Quiénes conforman la comunidad?

2) ¿Cuál es una norma de convivencia en la comunidad?

- a) Ayudar en las labores de la casa.
- b) Asistir puntualmente a clases.
- c) Mantener las áreas limpias como las plazas.

3) ¿Cuál de estas acciones corresponde a una buena convivencia en la comunidad?

		
a)	b)	c)



NORMAS DE CONVIVENCIA EN LA ESCUELA

“Asistir a la **escuela** puntualmente y con regularidad. -Acudir a clase con buenas condiciones de higiene y de salud. -Mantener una actitud correcta entre compañeros y profesores. -Respetar los derechos y la dignidad de cualquier persona del centro educativo.”

4) Escribe 4 normas de convivencia que deben existir en nuestro colegio:

- a) Saludar y despedirse.
- b) _____
- c) _____
- d) _____

5) Responde:

1.- ¿Cuál de las siguientes es una razón por la que se establecen normas de convivencia en la sala de clases?

- a) Para que todos obtengan mejores calificaciones.
- b) Para que exista un mejor ambiente de aprendizaje.
- c) Para evitar que exista un ambiente de respeto.

2.- Las normas de convivencias escolares son aquellas que:

- a) Debo respetar en casa.
- b) Debo respetar en el colegio.
- c) Debo respetar en la calle.

3.- ¿Cuál de estas acciones NO contribuyen a la buena convivencia en la sala de clases?

- a) Levantar la mano para hablar.
- b) Jugar dentro de la sala de clases.
- c) Escuchar a la profesora.

4. Una norma de autocuidado en la escuela sería:

- a) Bajar las escaleras caminando.
- b) Botar la basura al basurero.
- c) Levantar las manos al hablar.

CHILE y sus ZONAS

Chile es un territorio largo y angosto que atraviesa todas las zonas climáticas, por este motivo encontramos una diversidad de paisajes que nos permiten formar tres grandes zonas:

Zona Norte de nuestro país, la mayor parte del año hace mucho calor y llueve poco, se caracteriza por sus paisajes áridos, donde se impone un inmenso **desierto** rodeado de cerros de colores. El clima es desértico por lo que hay muy pocas plantas y animales. Encontramos cactus, tamarugos y llaretas, llamas, vizcachas, vicuñas y chinchillas.

Zona Central: En esta zona se distinguen claramente las cuatro estaciones del año. En verano el clima es cálido y seco; en invierno es frío y lluvioso. Su clima es templado, el que va presentando diferencias a medida que avanzamos hacia el Sur

Zona Sur Se caracteriza por ser lluviosa y fría en invierno. Gracias a su clima es que podemos disfrutar de los verdes y ondulantes colinas, bellos bosques y lagos de color esmeralda. En estas regiones poco a poco la cordillera cae al mar y se hace evidente en la zona de Puerto Montt.



Responde las preguntas en tu cuaderno:

	<p>1.- Escribe el nombre de las zonas según corresponde.</p>					
	<p>2.-¿Cómo es el clima y la vegetación en la zona norte de Chile?</p>					
	<p>3.-¿Por qué la llama habita en el norte de Chile?</p>					
	<p>4.- ¿En qué zona se ubica la capital de Chile?</p>					
	<p>5.-¿Cómo es el clima y la vegetación en la zona sur de Chile?</p>					
	<p>6.-¿Cuál de estos animales vive en la zona sur de Chile? ¿Por qué sobrevive allí?</p> <table border="1" style="width: 100%; text-align: center;"> <tr> <td></td> <td></td> <td></td> </tr> <tr> <td>Llama</td> <td>Pájaro carpintero</td> <td>Pingüino emperador</td> </tr> </table>				Llama	Pájaro carpintero
Llama	Pájaro carpintero	Pingüino emperador				

7.-Dibuja un paisaje característico de las zonas de Chile


Zona norte	Zona centro	Zona sur



Ticket de salida

Responde las preguntas

1.- Encierra en un círculo solo las acciones que ayudan a mantener una buena convivencia en la escuela.



2.-¿Cuál es una norma de convivencia en la comunidad?


- a) Usar mascarilla para ir a comprar.
- b) Hacer aseo de tu pieza.
- c) Escuchar instrucciones de tu maestra.

3.-Lee:

“Se caracteriza por ser lluviosa y fría en invierno. Gracias a su clima es que podemos disfrutar de los verdes y ondulantes colinas, bellos bosques y lagos de color esmeralda. En estas regiones poco a poco la cordillera cae al mar y se hace evidente en la zona de Puerto Montt.”

¿A qué zona pertenece esta descripción? _____

4.-Según la imagen comenta y escribe a que zona pertenece:



Envía a tu profesora tu ticket de salida