



### GUÍA N° 17

Curso	Primeros Básicos A- B- C- D- E
Asignatura	Historia, Geografía y Ciencias Sociales.
OA	<b>OA 10.-</b> Observar y describir paisajes de su entorno local, utilizando vocabulario geográfico adecuado (país, ciudad, camino, pueblo, construcciones, cordillera, mar, vegetación y desierto) y categorías de ubicación relativa (derecha, izquierda, delante, detrás, entre otros).
Desempeños	1.- Identifican algunas características naturales del paisaje en imágenes. 2.- Nombran algunas características naturales de distintos paisajes utilizando correctamente vocabulario geográfico. 3.- Describen con sus propias palabras el entorno local, utilizando categorías de ubicación relativa (derecha, izquierda, delante, detrás, entre otros).
Fecha	Semanas del Lunes 05 al Viernes 16 de Octubre

Nombre: \_\_\_\_\_ Curso: \_\_\_\_\_

### LOS PAISAJES

**Actividad N°1:** Junto a tu profesora y compañeros lee la siguiente información:

**Un paisaje natural** es aquel donde solo existen elementos naturales; es decir, aquellos que son propios de la naturaleza como el agua, vegetación, montañas y animales. Sin embargo el **paisaje artificial** además de que existen elementos naturales, el ser humano realiza construcciones de viviendas, puentes, calles, transportes.


**Responde:**

- Identifica el paisaje natural y luego píntalo.

A)



B)




- Escribe ¿cuáles son los elementos naturales que observas ?

1.-..... 2.-.....

3.-..... 4.-.....

- Observa el paisaje natural, ¿Qué dibujarías tú, para transformarlo en paisaje artificial?
- Comenta junto a tu profesora y compañeros lo que tú construirías y dibuja.



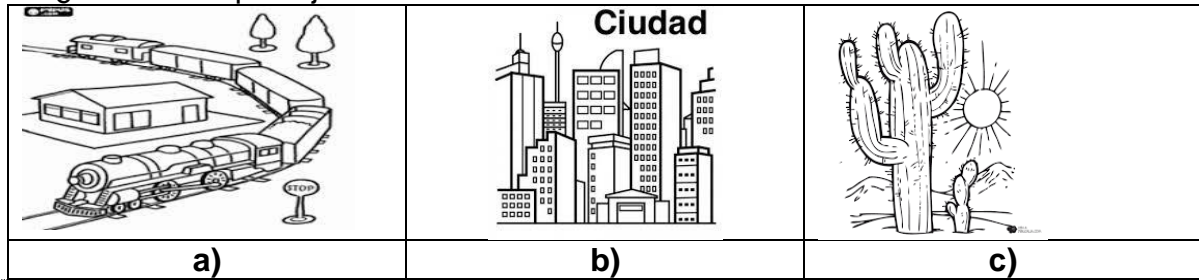




**Ticket de salida**


**Responde las preguntas**

1.- ¿Cuál es un paisaje natural?



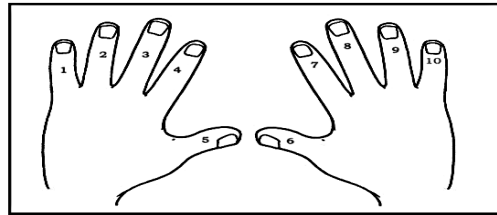
2.- Observa el paisaje y escribe un elemento natural y un elemento humano.

- **Natural:** \_\_\_\_\_
- **Humano:** \_\_\_\_\_




3.- ¿En cuál mano está el número 7?

- a) En la derecha.
- b) En la izquierda.
- c) En ninguna.



4.- ¿Dónde está la rana?

- a) Debajo la hoja.
- b) Sobre la hoja.
- c) Delante la hoja



**Envía a tu profesora tu ticket de salida.**