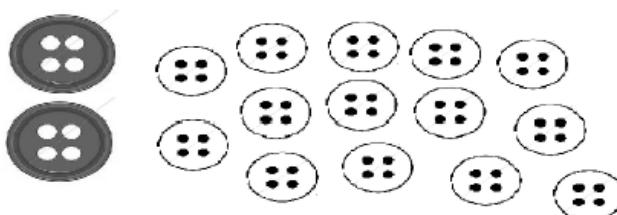


**MATEMÁTICA**  
**SEGUNDO BÁSICO**  
**RETROALIMENTACIÓN CURRÍCULUM PRIORIZADO**  
SEMANA DEL LUNES 09 AL VIERNES 13 DE NOVIEMBRE

OA 9

1) Emma tiene 2 botones azules y 14 botones blancos. ¿Cuántos botones tiene en total?



- A) 8
- B) 12
- C) 16

OA 9

2) ¿Cuál es el resultado de la siguiente adición?

D	U
	8
+	1
1	1

- A) 3
- B) 10
- C) 19

OA 9

3) Pierre debe hacer 12 ejercicios de una tarea. Después de resolver 8 ejercicios, ¿cuántos le faltan?

- A) 4
- B) 8
- C) 20

OA 11

4) Observa la secuencia:



¿Cuál es el patrón?



OA 11

5) Observa:



¿Qué figuras continúan la secuencia?



OA 11

6) Observa el patrón:



¿Cuáles son las dos figuras que faltan en el patrón?



OA 18

7) Observa:



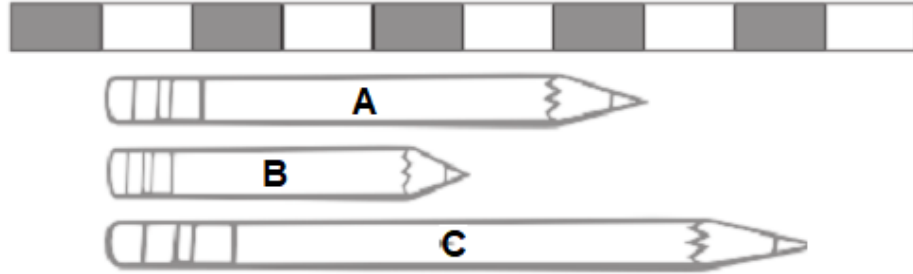
¿Cuántos clips mide la cuchara?

A) 6

B) 7

C) 8

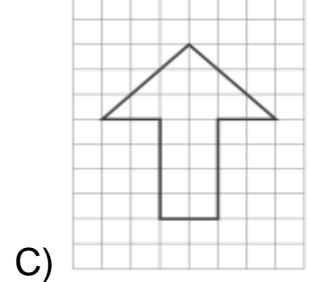
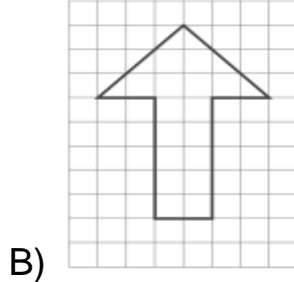
8) Mira la cinta y cada lápiz:




¿Cuántos rectángulos es más largo el lápiz **C** que el lápiz **B**?

- A) 2
- B) 3
- C) 4

9) ¿Cuál es la flecha más larga?




10) Observa los animales:



¿A quién verá el león a su derecha?

- A) Al hipopótamo
- B) A la jirafa
- C) Al mono


11) Observa la imagen






¿Quién está a la izquierda de Carolina?

- A) María
- B) Hugo
- C) Luis

12) ¿Qué alternativa indica en forma correcta lo que observa el niño?



- A) El  está a su derecha
- B) El  está a su izquierda
- C) El  está a su izquierda