

GUIA DE ACTIVIDADES. N° __2__ HISTORIA OCTAVO

DEPARTAMENTO	HISTORIA	ASIGNATURA	HISTORIA, GEOGRAFÍA Y CIENCIAS SOCIALES
OA PRIORIZADOS	OA 3 y OA21	FECHA DE INICIO	22 DE MARZO
LETRA DEL NIVEL	A-B-C-D	FECHA DE TERMINO	26 DE MARZO

Indicaciones del profesor.

IMPORTANTE:

- 1- Si no asistes a clases el día de la entrega de la guía puedes descargarla desde la página web del colegio o desde el classroom de tu curso.
- 2- Recuerda que debes ir haciendo en orden tus guías e ir guardándolas en una carpeta o en un archivo virtual.
- 3- Si tienes dudas para realizar tu guía y no asistes a clases presenciales puedes consultar al correo de tu profesor.
- 4- Todas estas instrucciones se aplican a todas las guías que recibas de la asignatura.

Contenido.

La Cuenca del Mediterráneo.

Se denomina cuenca del Mediterráneo al conjunto de tierras de Europa, Asia y África que rodean al mar Mediterráneo (“mar entre tierras”). En términos generales, se puede afirmar que es una región montañosa que no cuenta con grandes planicies, sus ríos suelen ser cortos y torrentosos, sus suelos más bien pobres, y se caracteriza por tener un clima templado cálido, que también se conoce como “mediterráneo”.

Durante la Edad Antigua la cuenca del mar Mediterráneo fue el escenario geográfico de diversos pueblos que ligaron su historia a sus aguas y se relacionaron a través de él. El Mediterráneo no fue una frontera que los separara, sino un mar de encuentro cuyos puentes fueron las islas, las penínsulas y las embarcaciones que lo surcaban.

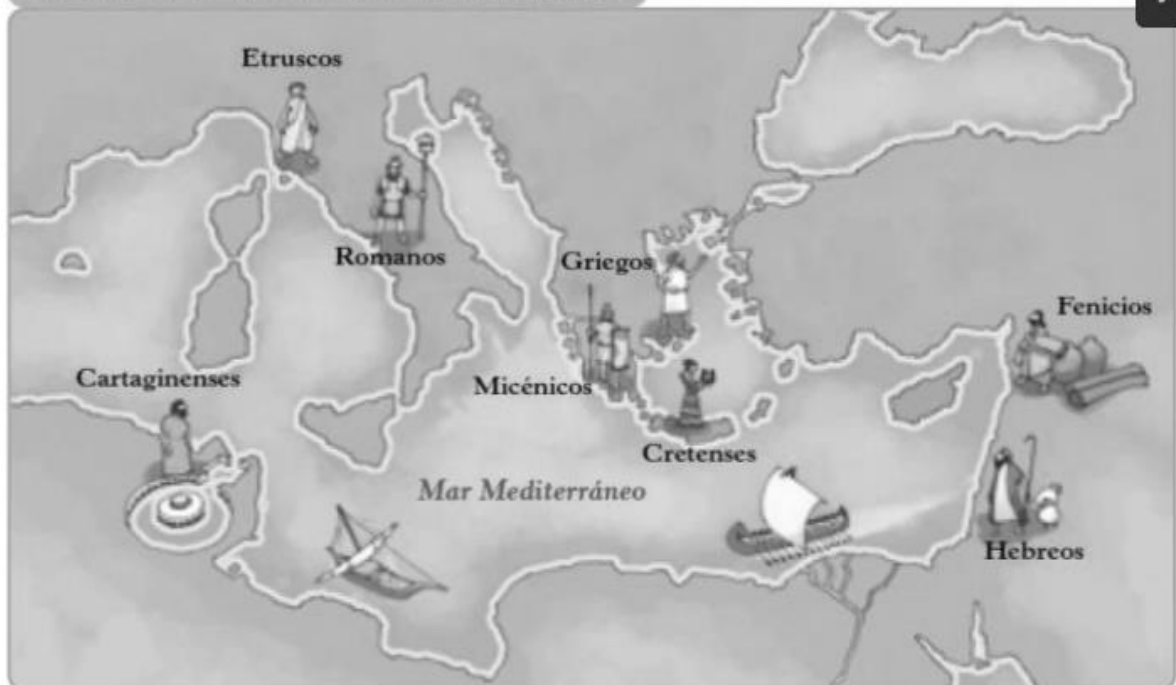
Debido a las características geográficas de la cuenca, la agricultura no era una actividad fácil. Cuando a las limitaciones naturales se sumaba una temporada de sequías, una peste, malas cosechas, o si la población aumentaba más allá de cierto límite, se generaban crisis alimenticias que motivaban a algunos grupos a emigrar en busca de tierras. El mar solía ser la vía escogida para dirigirse a otros lugares y establecer colonias, del mismo modo que se utilizaba como principal vía de comercio.



1- Los Pueblos de la Cuenca del mar Mediterráneo.

Entre los pueblos mediterráneos, hubo algunos con especial vocación marítima que comerciaron a través de él, promoviendo, de paso, el intercambio cultural. En este aspecto destacaron los cretenses y micénicos en el Mediterráneo oriental, los fenicios y griegos que recorrieron el mar de un extremo a otro y los cartagineses y etruscos en el Mediterráneo occidental. Finalmente, los romanos hicieron de él un mare nostrum (mar nuestro) al dominar toda la región y formar un vasto imperio a su alrededor.

Pueblos de la cuenca del mar Mediterráneo



- La importancia de su clima y el comercio

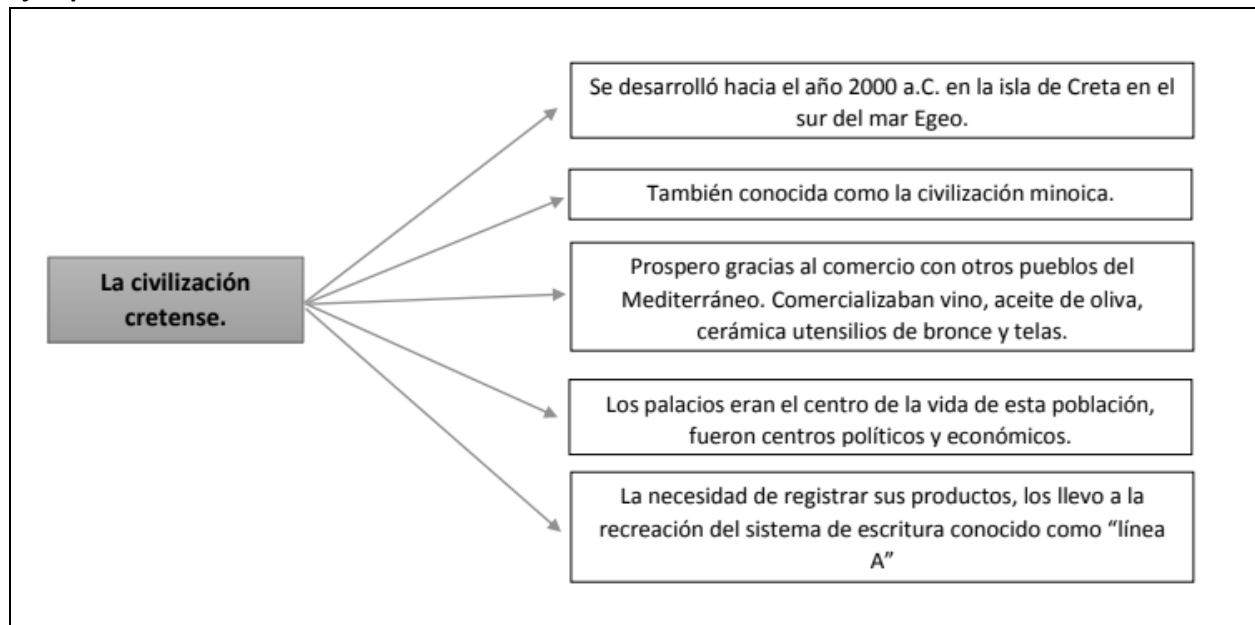
Otro factor geográfico importante que benefició a las culturas del mar Mediterráneo fue el clima templado de sus costas, cuyas estaciones están bien marcadas, con inviernos fríos y húmedos y veranos secos y calurosos, pero sin llegar a temperaturas muy extremas, lo que favorece tanto el asentamiento humano como el desarrollo de la agricultura. Le permitió la producción de productos de alto valor económico como el vino y el aceite de oliva, generando que el comercio dentro de la zona del mediterráneo se transformara en la principal actividad económica de muchos pueblos.

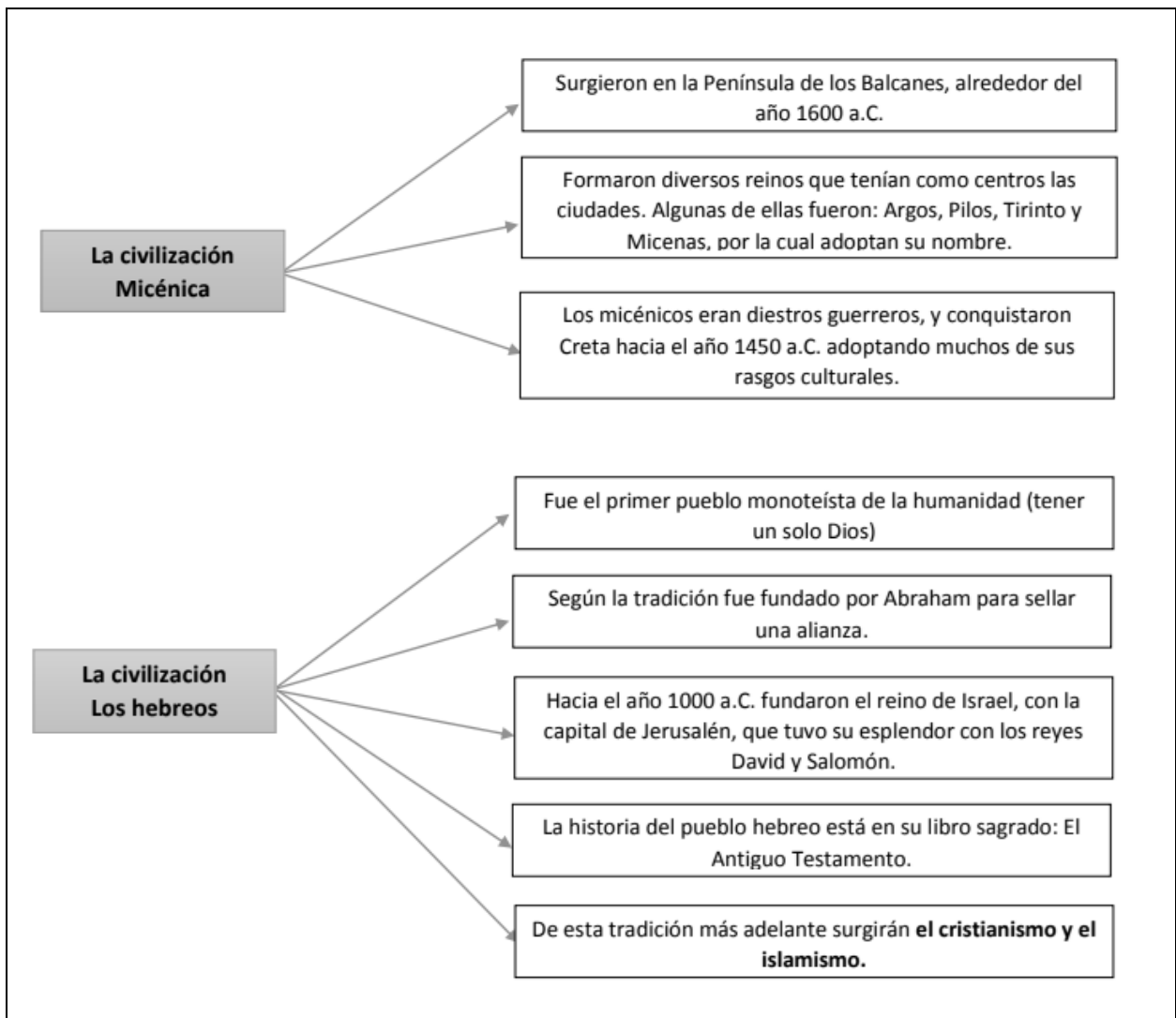
Todo este desarrollo fue impulsado por la gran habilidad para la navegación que desarrollaron los pueblos de la cuenca de mediterráneo y por la accidentada geografía que poseía el territorio, obligándolos a buscar otras alternativas económicas. Generando así un gran desarrollo económico, social y cultural.



La base alimentaria de las civilizaciones mediterráneas fue el trigo, la vid y el olivo, productos almacenables y de alto valor comercial.

Ejemplos





Actividad de ejercitación.

Actividades.

I-. A partir de la información presente en la guía de estudio, responde las siguientes preguntas.

1-. ¿A qué se le denomina “cuenca del Mediterráneo?”

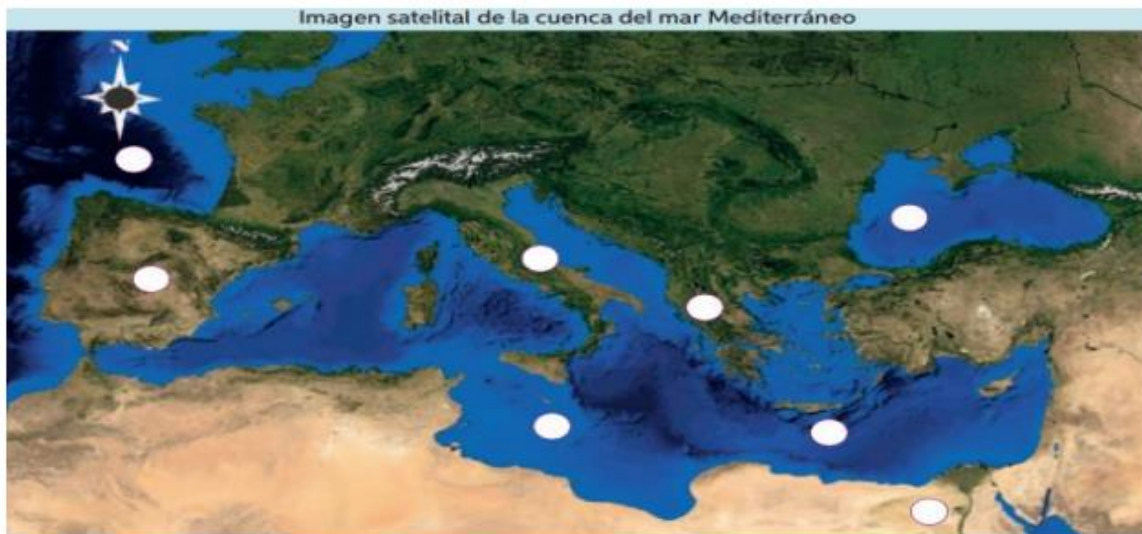
2-. ¿Qué características geográficas posee la cuenca del Mediterráneo?

3-. ¿Qué dificultades tuvieron que superar los pueblos de esta zona, por sus características geográficas?

4- ¿Por qué el mar Mediterráneo fue un punto de encuentro para los pueblos que vivían en él?

5- Caracteriza según tus palabras a una de las civilizaciones expuestas en la guía.

II-. Según la información que aparece en los mapas de esta guía completa el siguiente mapa con los números que correspondan.



1-. Mar Mediterráneo. 2-. Mar Negro 3-. Océano Atlántico 4-. Península Ibérica 5-. Península Itálica 6-. Península Balcánica 7-. Creta. 8-. Egipto.