



GUÍA DE HISTORIA, GEOGRAFÍA Y CS. SOCIALES PRIMERO BÁSICO

Nombre _____

Curso: 1° Básico	Asignatura: Historia, Geografía y Ciencias Sociales
Fecha: 12 al 23 de abril	En caso de duda envía un correo a tu profesor
Objetivo de aprendizaje OA2	Secuenciar acontecimientos y actividades de la vida cotidiana, personal y familiar, utilizando categorías relativas de ubicación temporal, como antes, después; ayer, hoy, mañana, día, noche, este año, el año pasado, el año próximo
Recursos pedagógicos	Guía de trabajo Texto escolar

Observa el siguiente Calendario y luego contesta marcando la alternativa correcta:

1. El calendario indica que el año tiene:

- a) 8 meses
- b) 10 meses
- c) 12 meses

2. El año que actualmente estamos es:

- a) 2019
- b) 2021
- c) 2020

3. La ilustración indica como era:

- a) antes
- b) ahora
- c) después



4. ¿A qué momento del día corresponde la imagen que observas?

- a) atardecer
- b) mediodía
- c) amanecer



Observa la imagen y responde las preguntas 5 y 6.



5. Una de las características semejantes de los estudiantes es:

- a) son todas mujeres
- b) son todos del mismo curso
- c) son todos hermanos

6. ¿Qué diferencias puede tener el grupo de niños?

- a) Tienen diferentes padres
- b) A algunos no les gusta hacer tareas
- c) A algunos no les gusta jugar

Observa la imagen y responde las preguntas 7 y 8.



7. ¿Cuál crees que puede ser una costumbre de esta familia y también de la tuya?

- a) Viajar fuera del país
- b) Ver TV hasta muy tarde
- c) Celebrar los cumpleaños


8. ¿Quién crees que es el jefe de la familia?



- a) Papá
- b) Mamá
- c) Abuelo

9. Ordena los días de la semana del 1 al 7.

Sábado <input type="radio"/>	Martes <input type="radio"/>	Jueves <input type="radio"/>	Lunes <input type="radio"/>
Domingo <input type="radio"/>	Miércoles <input type="radio"/>	Viernes <input type="radio"/>	

10. Observa y ordena las siguientes imágenes del 1 al 4, según pasa el tiempo.



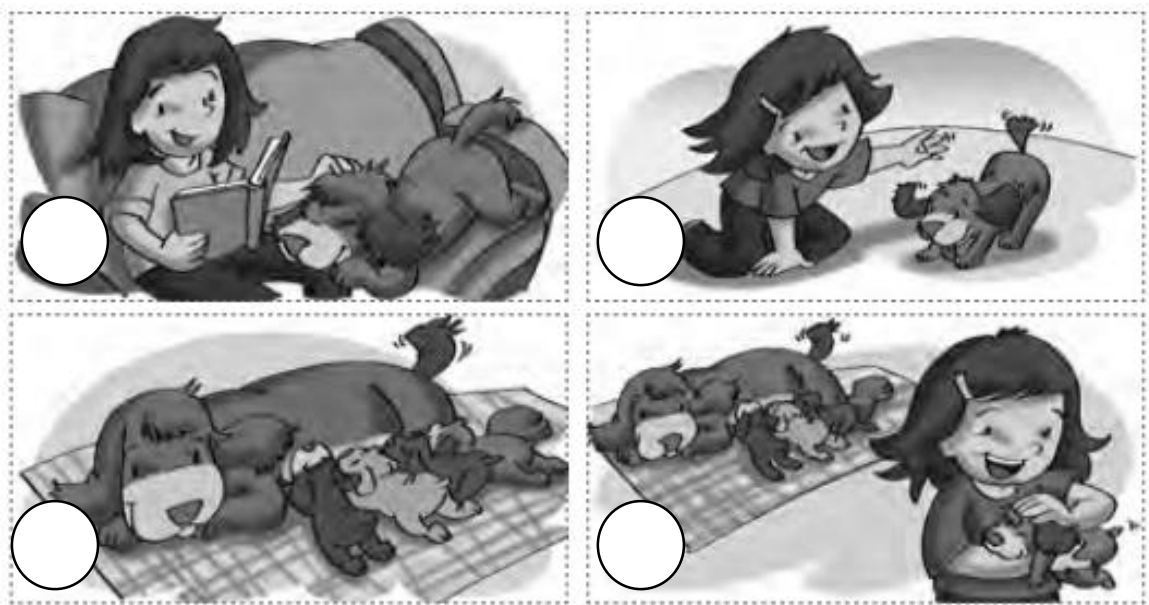
11. Observa las siguientes acciones y pon un  si la actividad la realizas de día o una  si la realizas de noche.



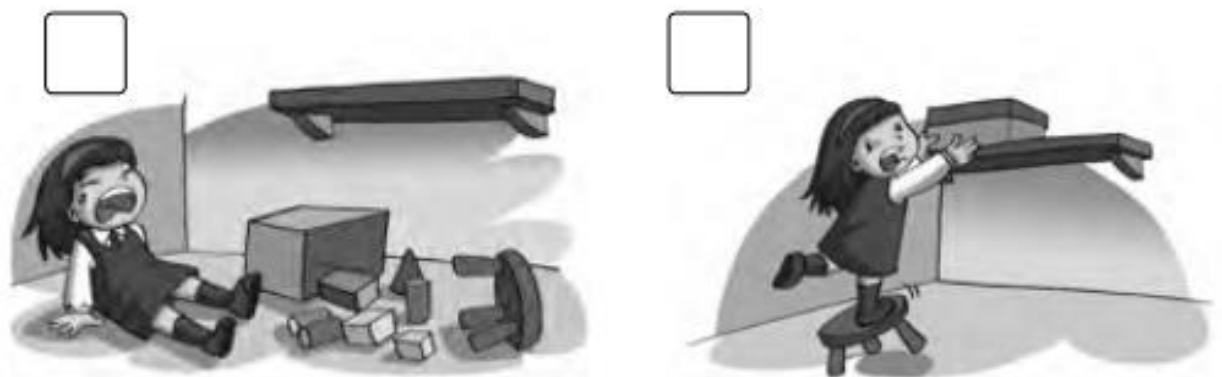
12. Ordena las secuencias del 1 al 4 desde lo que pasó **antes** a lo que pasó **después**.



13. Ordena las secuencias del a al 4 desde lo que pasó **antes** a lo que pasó **después**.



14. Escribe 1 para lo que pasó antes y 2 para lo que pasó después.



15.- ¿Qué animal está bajo el árbol?

a)



b)



c)

