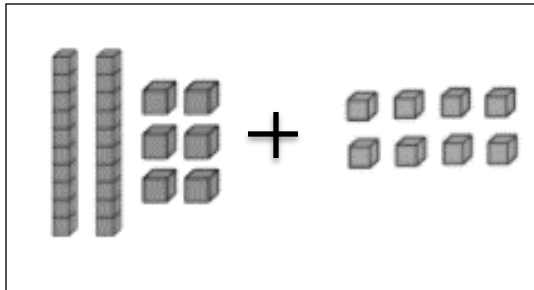


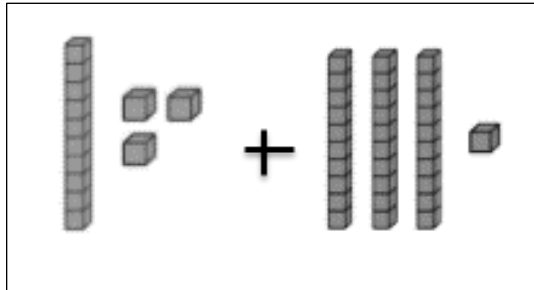
2.- RESUELVE:

SUMA LOS BLOQUES Y UNE AL RESULTADO:



14

24

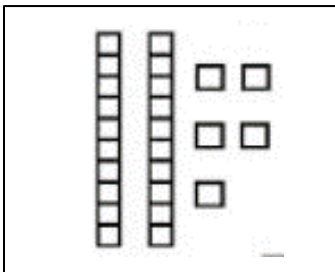


44

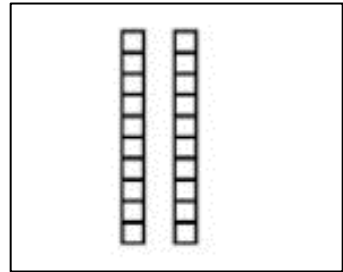
34

3.- RESUELVE ESTAS SUSTRACCIONES ÁMBITO NUMÉRICO 0 AL 40:

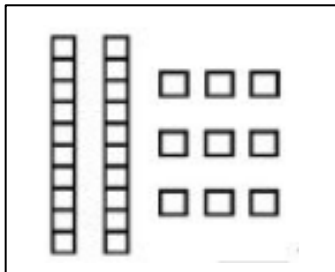
A) $25 - 10 = \square$



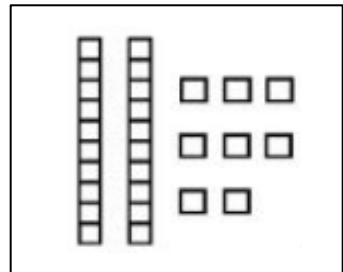
B) $20 - 5 = \square$



c) $29 - 15 = \square$



D) $28 - 7 = \square$



5.- OBSERVA LAS SIGUIENTES OPERACIONES Y RESUELVE:
MIRA EL EJEMPLO

¿CÓMO RESUELVO?	SUMA	RESTA
	21 + 7	38 - 10
DIBUJO		
RECTA NUMÉRICA		
TABLA POSICIONAL	$\begin{array}{r l} \text{D} & \text{U} \\ 2 & 1 \\ + & 7 \\ \hline 2 & 8 \end{array}$	$\begin{array}{r l} \text{D} & \text{U} \\ 3 & 8 \\ - 1 & 0 \\ \hline 2 & 8 \end{array}$

RESUELVE:

¿CÓMO RESUELVO?	SUMA	RESTA
	18 + 5	23 - 10
DIBUJO		
RECTA NUMÉRICA		
TABLA POSICIONAL	$\begin{array}{r l} \text{D} & \text{U} \\ + & \\ \hline & \end{array}$	$\begin{array}{r l} \text{D} & \text{U} \\ - & \\ \hline & \end{array}$

6.- RESUELVE ESTA ADICIÓN Y PINTA DE COLOR ROJO EL RESULTADO.

A) $10 + 10 =$

8	19	4	20
10	15	3	16
18	13	5	7

B) $15 + 3 =$

2	19	4	1
20	15	3	18
10	8	5	6

7.- LEE ATENTAMENTE LAS HISTORIETAS PROBLEMÁTICAS Y LUEGO CREA EL FINAL CON LA OPERACIÓN QUE LE CORRESPONDA.



	D	U