

--	--	--	--	--	--	--	--

RUT ALUMNO

# PRUEBA DE HISTORIA, GEOGRAFÍA Y CIENCIAS SOCIALES CURRÍCULUM PRIORIZADO 2021 5° BÁSICO

NOMBRE COMPLETO	
CURSO	
ESTABLECIMIENTO	

Antes de responder la prueba, lee las instrucciones.

- Lee atentamente las preguntas antes de responder.
- Completa los datos que indique el profesor en este cuadernillo y en la **HOJA DE RESPUESTA**.
- Esta prueba consta de preguntas de opción múltiple. Una sola es la respuesta correcta.
- Utiliza este cuadernillo como borrador, subraya, realiza marcas, haz cálculos si corresponde; pero no olvides traspasar la respuesta a la **HOJA DE RESPUESTA**.
- En la **HOJA DE RESPUESTA** ennegrece el círculo de la opción correcta con lápiz pasta azul o negro una vez que estés totalmente seguro de la respuesta.




- Si tienes alguna duda, en silencio, levanta la mano para preguntarle al profesor o profesora.
- Tu profesor o profesora te indicará la hora de inicio y término de la prueba.
- Al finalizar, revisa bien y entrega todo el material.

**1. Lee el texto y responde.**

Presenta escasas precipitaciones, altas temperaturas durante el día y muy bajas durante la noche. Su vegetación es escasa, y se adapta a la falta de agua.

Archivo editorial.



**¿A qué clima de América corresponde la descripción?**

- A. Desértico
- B. Templado
- C. Polar
- D. Costero

**2. Lee el titular y observa la imagen.**

**En la tierra helada de Groenlandia, perros y humanos se ayudan para sobrevivir**




**¿Con qué tipo de clima asocias el titular de la noticia?**

- A. Polar
- B. Costero
- C. Tropical
- D. Mediterráneo

3. Observa la imagen y responde.

**Paisaje del sur de Chile, región de la Araucanía**



¿Qué elementos naturales del paisaje se destacan en la fotografía?

- A. Río y edificios.
- B. Desierto y mar.
- C. Planicies y edificios.
- D. La cordillera y vegetación.

Lee el texto y responde las preguntas 4 a 6.

**AMÉRICA Y SUS RECURSOS NATURALES**

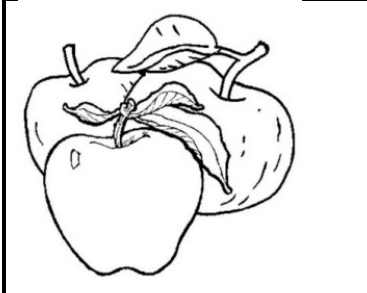
América tiene reservas de abundantes [muchas] y diferentes recursos naturales debido a su tamaño y variedad de paisajes. Estas riquezas naturales mantienen las economías de los países del continente y de sus habitantes. Los recursos naturales más importantes de América son: los minerales, los hidrocarburos, el suelo agrícola y ganadero, los recursos forestales y pesquero.

Extraído el 29 de enero de 2020 de [https://www.curriculumnacional.cl/614/articulos-28144\\_recurso\\_pdf.pdf](https://www.curriculumnacional.cl/614/articulos-28144_recurso_pdf.pdf)


4. ¿Qué uso se da principalmente a los recursos pesqueros?

- A. Se producen telas.
- B. Se produce energía.
- C. Se producen alimentos.
- D. Se producen aparatos eléctricos.

5. ¿Cuál de las siguientes imágenes es un ejemplo de mineral?



A. Manzanas



B. Peces




C. Cobre



D. Madera

6. ¿Qué producto se puede elaborar utilizando los recursos forestales?



A. Muebles



B. Alimentos



C. Ropa



D. Zapatos

7. ¿En qué lugar desempeñan sus funciones los senadores y diputados?



A. Palacio de la Moneda



B. El Congreso Nacional



C. Intendencia Metropolitana



D. Tribunales de Justicia

**8. Lee y responde.**

Máxima autoridad del país. Es elegido(a) democráticamente en votación popular cada cuatro años. Se encarga de nombrar a los ministros, embajadores y jefes de servicio.

**¿A qué autoridad de Chile se refiere la definición?**

- A. Alcalde
- B. Diputados
- C. Senadores
- D. Presidente

**9. ¿Cuál de estas autoridades es designada por el presidente de la república?**

- A. Alcalde
- B. Ministro
- C. Diputado
- D. Senador

**10. ¿Qué derecho representa la imagen?**

**Jugar con amigos.**

- A. Derecho a la salud.
- B. Derecho a la recreación.
- C. Derecho a un buen trato.
- D. Derecho a tener una identidad.

**11. ¿Cuál de las siguientes situaciones es la correcta?**

- A. Si no estudié tengo derecho a copiar.
- B. Si me molestan tengo derecho a pegarle al molestoso.
- C. Cuando estoy enojado puedo maltratar a mis compañeros.
- D. Si estoy enfermo tengo derecho a recibir los cuidados adecuados.

12. ¿Con qué derecho relacionas la siguiente noticia?

**Atención permanente de salud para niños, niñas y adolescentes del Sename con enfermedades crónicas**

Extraído el 23 de julio de 2020 de [www.senado.cl](http://www.senado.cl)

- A. El derecho a la salud.
- B. El derecho a la educación.
- C. El derecho a tener un nombre.
- D. El derecho a la no discriminación.

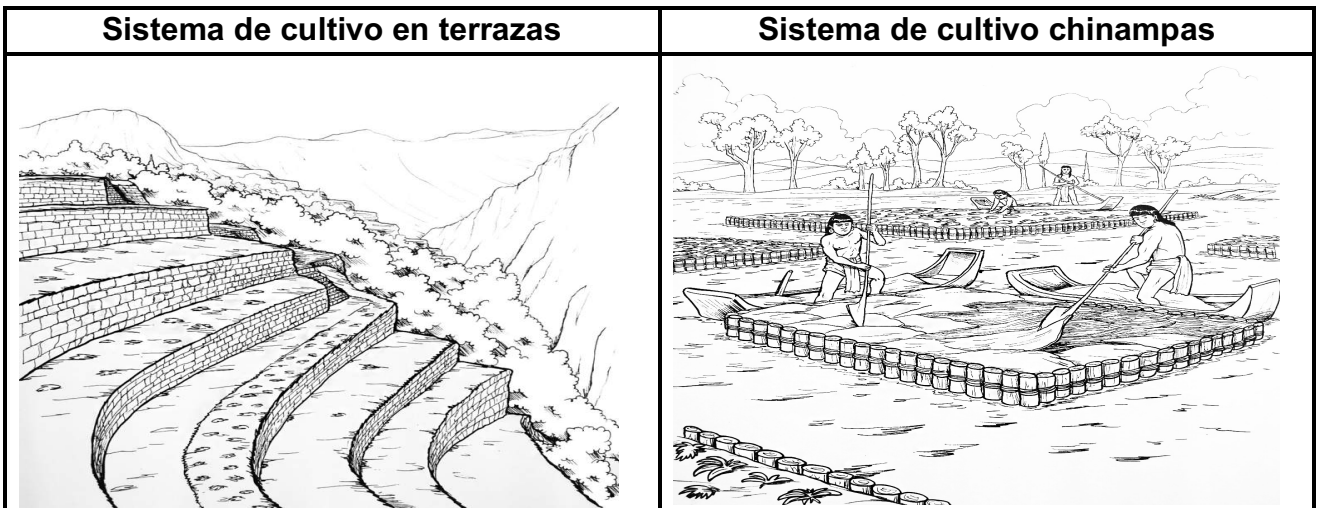
13. ¿Cuál es una diferencia entre las civilizaciones azteca, maya e inca?

- A. Creían en un solo dios.
- B. No poseían autoridades.
- C. No hablaban el mismo idioma.
- D. Elegían por votación a sus autoridades.

14. ¿Cuál es una similitud entre las civilizaciones azteca, maya e inca?

- A. Su sociedad era igualitaria.
- B. Poseían una religión politeísta.
- C. Sus autoridades eran elegidas por el pueblo.
- D. Realizaban guerras floridas para sacrificios humanos.

15. Observa y responde.



¿En qué se parecen estos sistemas de cultivo?

- A. Se cultivaba en medio de un lago.
- B. Se cultivaban los mismos productos.
- C. Se cultivaba en las laderas de los cerros.
- D. Se tuvieron que adaptar a la geografía de la zona.