

4° BÁSICOS 2021-05-24 AL 28- HISTORIA

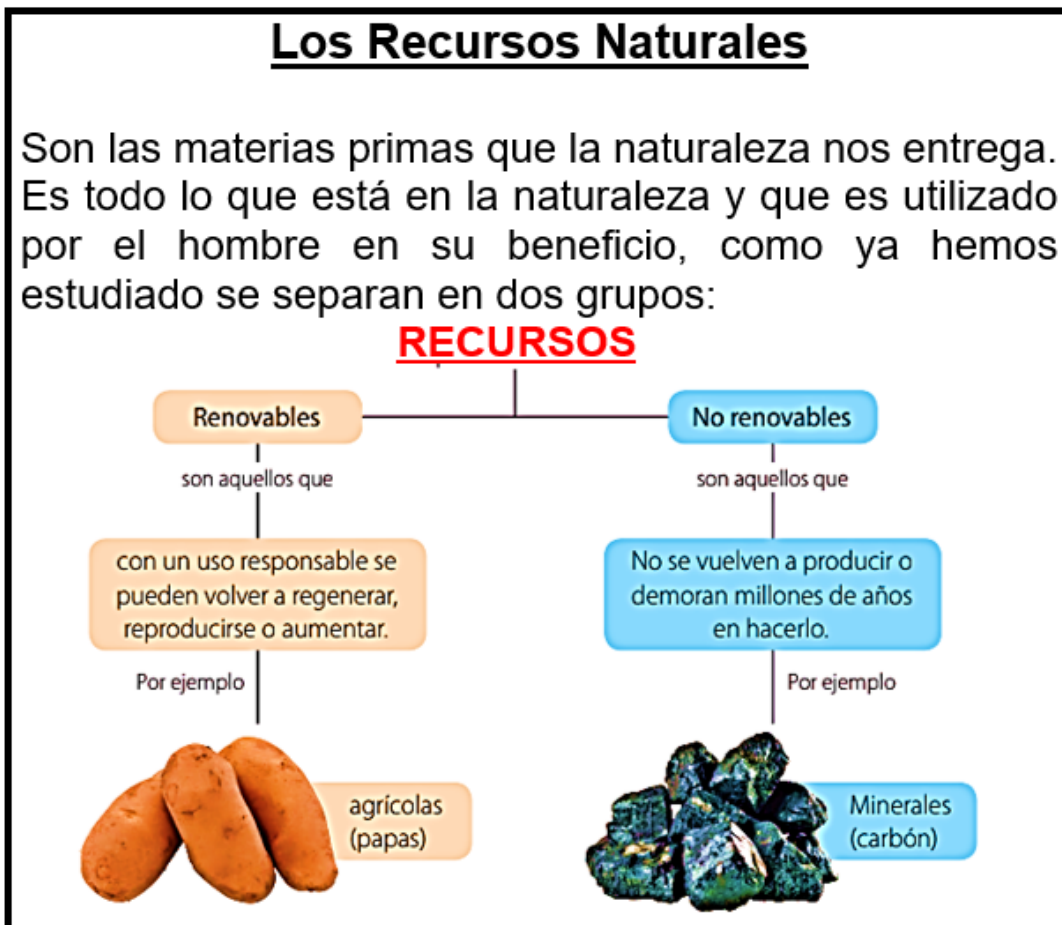
EJE: Geografía

OA 9: Reconocer y ubicar los principales recursos naturales de América, considerando su distribución geográfica y su uso, y reconociendo la importancia de cuidarlos en el marco de un desarrollo sostenible.

*Obligatorio

1. Nombre y Apellidos: *

BUSCA EN TÚ LIBRO DE HISTORIA LA PÁGINA 32 Y 33:



2. 1.- Según lo leído. ¿Qué son los recursos naturales? *

1 punto

Marca solo un óvalo.

- A.- Productos naturales que se agotan
- B.- Bienes creados por los seres humanos
- C.- Son los elementos que provienen de la naturaleza
- D.- Son artículos industriales que se fabrican a partir de materiales reciclados.

3. 2.- ¿Qué son los recursos no renovables? *

1 punto

Marca solo un óvalo.

- A.- Los recursos naturales sustentables
- B.- Todos los recursos que entrega la naturaleza
- C.- Son los recursos que la naturaleza tarda en restaurar
- D.- Son recursos usados que se pueden volver a utilizar

4. 3.- ¿Cuál de las siguientes imágenes muestra un recurso natural no renovable? *

1 punto

Marca solo un óvalo.



A.-



B.-

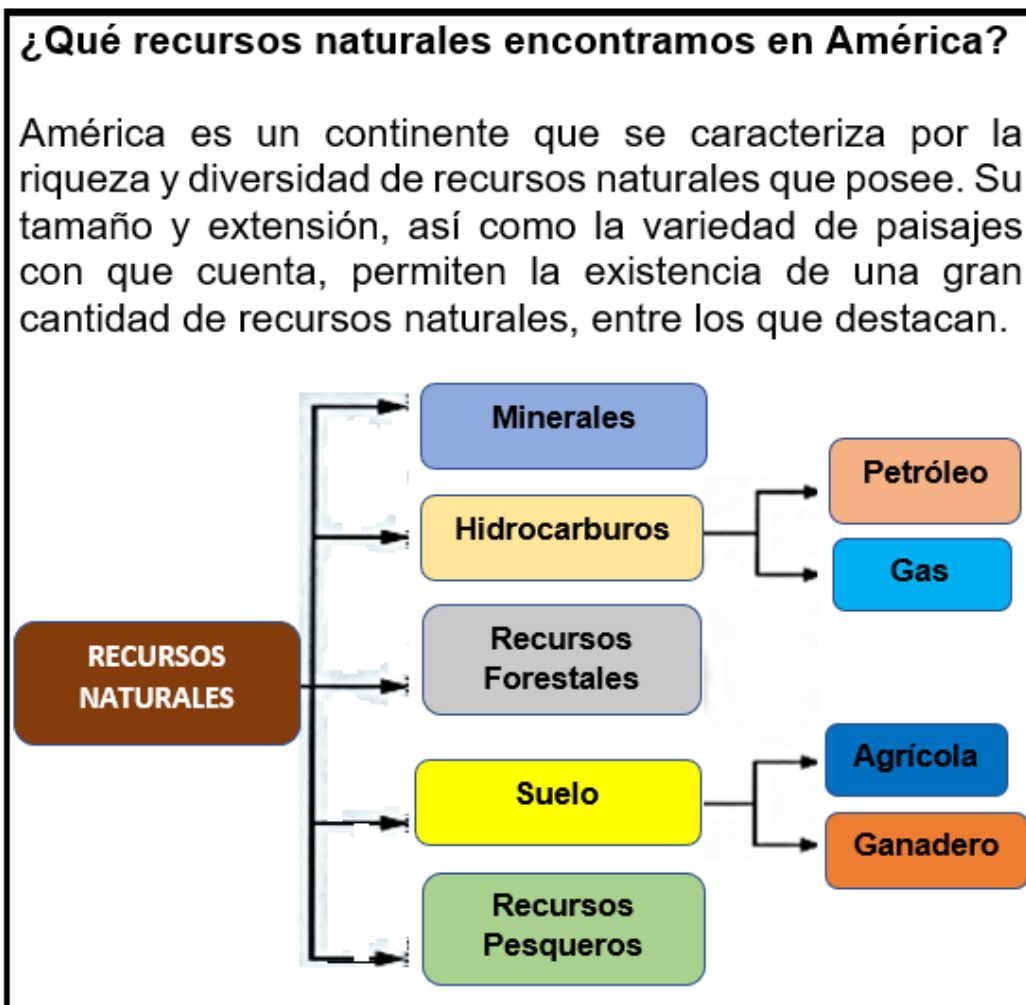


C.-



D.-

AMPLIANDO EL CONTENIDO DE LA PÁGINA 38 DE TÚ LIBRO DE HISTORIA:

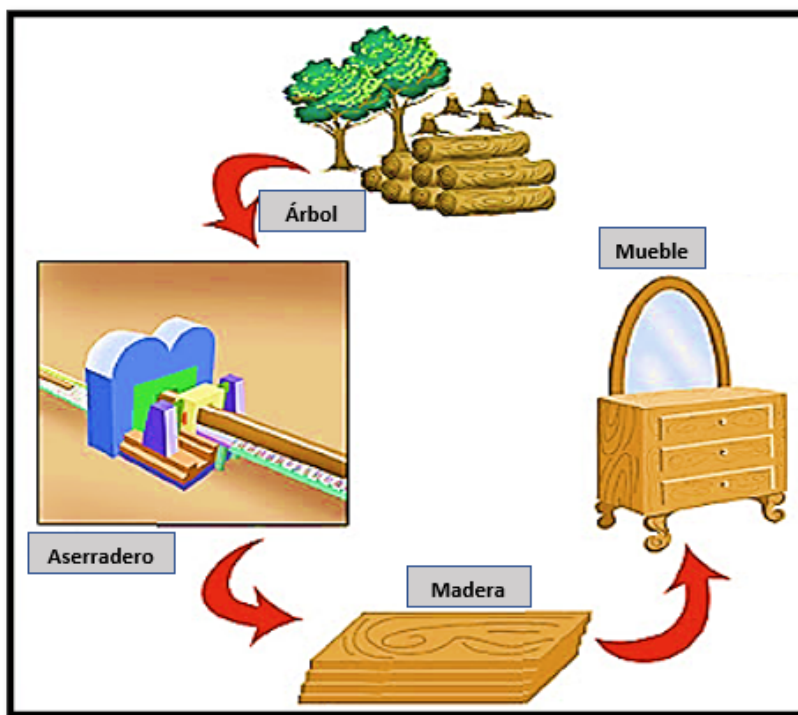


5. RECONOCE E IDENTIFICA LAS DIFERENTES MATERIAS PRIMAS Y RELACIONA CON LOS RECURSOS NATURALES RESPECTIVOS: * 8 puntos

Marca solo un óvalo por fila.

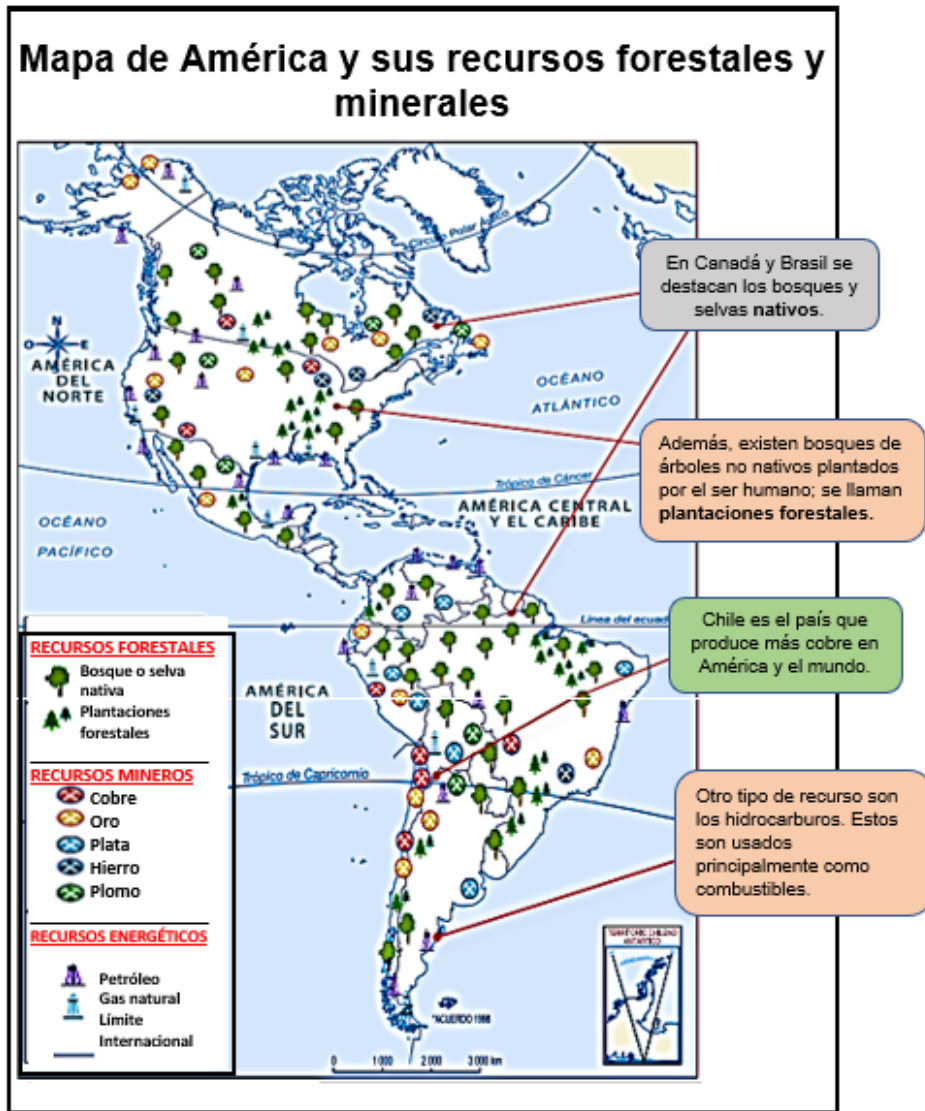
	Recurso Mineral	Recurso Hidrocarburo	Recurso Forestal	Recurso Suelo	Recurso Pesquero
4.- Oro, plata, zinc, otros	<input type="radio"/>	<input type="radio"/>	<input type="radio"/>	<input type="radio"/>	<input type="radio"/>
5.- Pino, álamo	<input type="radio"/>	<input type="radio"/>	<input type="radio"/>	<input type="radio"/>	<input type="radio"/>
6.- Pesca, marinos	<input type="radio"/>	<input type="radio"/>	<input type="radio"/>	<input type="radio"/>	<input type="radio"/>
7.- Vacas, cerdos	<input type="radio"/>	<input type="radio"/>	<input type="radio"/>	<input type="radio"/>	<input type="radio"/>
8.- Lechugas, papas	<input type="radio"/>	<input type="radio"/>	<input type="radio"/>	<input type="radio"/>	<input type="radio"/>
9.- Diesel, bencina	<input type="radio"/>	<input type="radio"/>	<input type="radio"/>	<input type="radio"/>	<input type="radio"/>
10.- Gas natural	<input type="radio"/>	<input type="radio"/>	<input type="radio"/>	<input type="radio"/>	<input type="radio"/>
11.- Pieles de animales	<input type="radio"/>	<input type="radio"/>	<input type="radio"/>	<input type="radio"/>	<input type="radio"/>

6. 12.- Observa, el siguiente proceso e identifica. ¿Cuál de los pasos en la elaboración de un mueble es la materia prima? * 1 punto



Marca solo un óvalo.

- A.- El árbol
- B.- El aserradero
- C.- La madera
- D.- El mueble



7. 13.- Observa la imagen. ¿Qué tipo de recurso natural se está extrayendo? *

1 punto



Marca solo un óvalo.

- A.- Recurso Forestal
- B.- Recurso Minero
- C.- Recurso Energético
- D.- Recurso Pesquero

8. 14.- A partir de la información que muestra el mapa, existen bosques que son árboles plantados por el hombre. ¿Qué nombre recibe este tipo de plantación? * 1 punto

Marca solo un óvalo.

- A.- Bosques
 B.- Nativo
 C.- Bosques nativos
 D.- Plantaciones forestales

9. 15.- A partir de la información que muestra el mapa, Chile es el país que produce mayor recurso mineral en el mundo. ¿Cuál es el nombre del producto principal que se extrae en Chile? * 1 punto

Marca solo un óvalo.

- A.- Oro
 B.- Plata
 C.- Cobre
 D.- Bronce

10. 16.- A partir de la información que muestra el mapa. ¿Qué tipo de recurso es más abundante en Canadá y Brasil? * 1 punto

Marca solo un óvalo.

- A.- Recursos Marinos
 B.- Recursos Hídricos
 C.- Recursos Minerales
 D.- Recursos Forestales

Google no creó ni aprobó este contenido.

Google Formularios