

Actividad de **Caligrafix**

¡OBSERVAR Y PENSAR CON LAS FIGURAS GEOMÉTRICAS!

Martes 29 de junio

NOMBRE: _____


DÍA	MES

ÁMBITO: C.I. DEL ENTORNO



























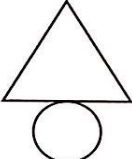
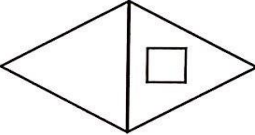












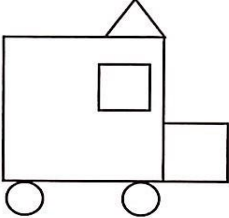



















NÚCLEO: PENSAMIENTO MATEMÁTICO

OBJETIVO DE LA ACTIVIDAD: Resolver problemas con figuras geométricas.

Caligrafix: Lógico y Números, pág. 81



Resolución de problemas

																															
<table border="1" style="width: 100%; border-collapse: collapse;"> <tr> <td style="text-align: center;"></td> <td style="text-align: center;"></td> <td></td> <td></td> </tr> <tr> <td style="text-align: center;"></td> <td style="text-align: center;"></td> <td style="text-align: center;"></td> <td style="text-align: center;"></td> </tr> </table>									<table border="1" style="width: 100%; border-collapse: collapse;"> <tr> <td style="text-align: center;"></td> <td></td> <td></td> <td></td> </tr> <tr> <td style="text-align: center;"></td> <td></td> <td></td> <td></td> </tr> </table>																						
																															
																															
																															
																															
																															
<table border="1" style="width: 100%; border-collapse: collapse;"> <tr> <td style="text-align: center;"></td> <td></td> <td></td> <td></td> </tr> <tr> <td style="text-align: center;"></td> <td></td> <td></td> <td></td> </tr> </table>									<table border="1" style="width: 100%; border-collapse: collapse;"> <tr> <td style="text-align: center;"></td> <td></td> <td></td> <td></td> </tr> <tr> <td style="text-align: center;"></td> <td></td> <td></td> <td></td> </tr> </table>																						
																															
																															
																															
																															
																															
<table border="1" style="width: 100%; border-collapse: collapse;"> <tr> <td style="text-align: center;"></td> <td></td> <td></td> <td></td> <td></td> </tr> <tr> <td style="text-align: center;"></td> <td></td> <td></td> <td></td> <td></td> </tr> <tr> <td style="text-align: center;"></td> <td></td> <td></td> <td></td> <td></td> </tr> </table>																<table border="1" style="width: 100%; border-collapse: collapse;"> <tr> <td style="text-align: center;"></td> <td></td> <td></td> <td></td> <td></td> </tr> <tr> <td style="text-align: center;"></td> <td></td> <td></td> <td></td> <td></td> </tr> <tr> <td style="text-align: center;"></td> <td></td> <td></td> <td></td> <td></td> </tr> </table>															
																															
																															
																															
																															
																															
																															

Resolver problemas con figuras geométricas (2D)

- Registra en las tablas la cantidad de cuadrados, círculos y triángulos que forma cada dibujo y luego pinta las figuras. Fíjate en el ejemplo.