

¡A JUGAR CON LAS FIGURAS GEOMÉTRICAS!

Jueves 24 de Junio

Actividad libro  
Lógica y números.

NOMBRE: \_\_\_\_\_



DÍA

MES

ÁMBITO Interacción y comprensión del entorno.

NÚCLEO Pensamiento matemático.



OBJETIVO DE LA ACTIVIDAD: Identificar las formas que tienen las figuras geométricas mediante adivinanzas.

- Escucha las adivinanzas y pinta la figura geométrica que corresponde a cada una.
- En cada fila, encierra solo las iguales al modelo.



Pág. 76

1



Tiene tres lados rectos y los tres se juntan perfecto, ¿qué figura es?



Tiene cuatro lados iguales y cuatro esquinas a la vez, ¿qué figura es?



Tiene una línea curva y es redonda también, ¿qué figura es?



2

