

¡CONTEO Y SECUENCIAS NUMÉRICAS!


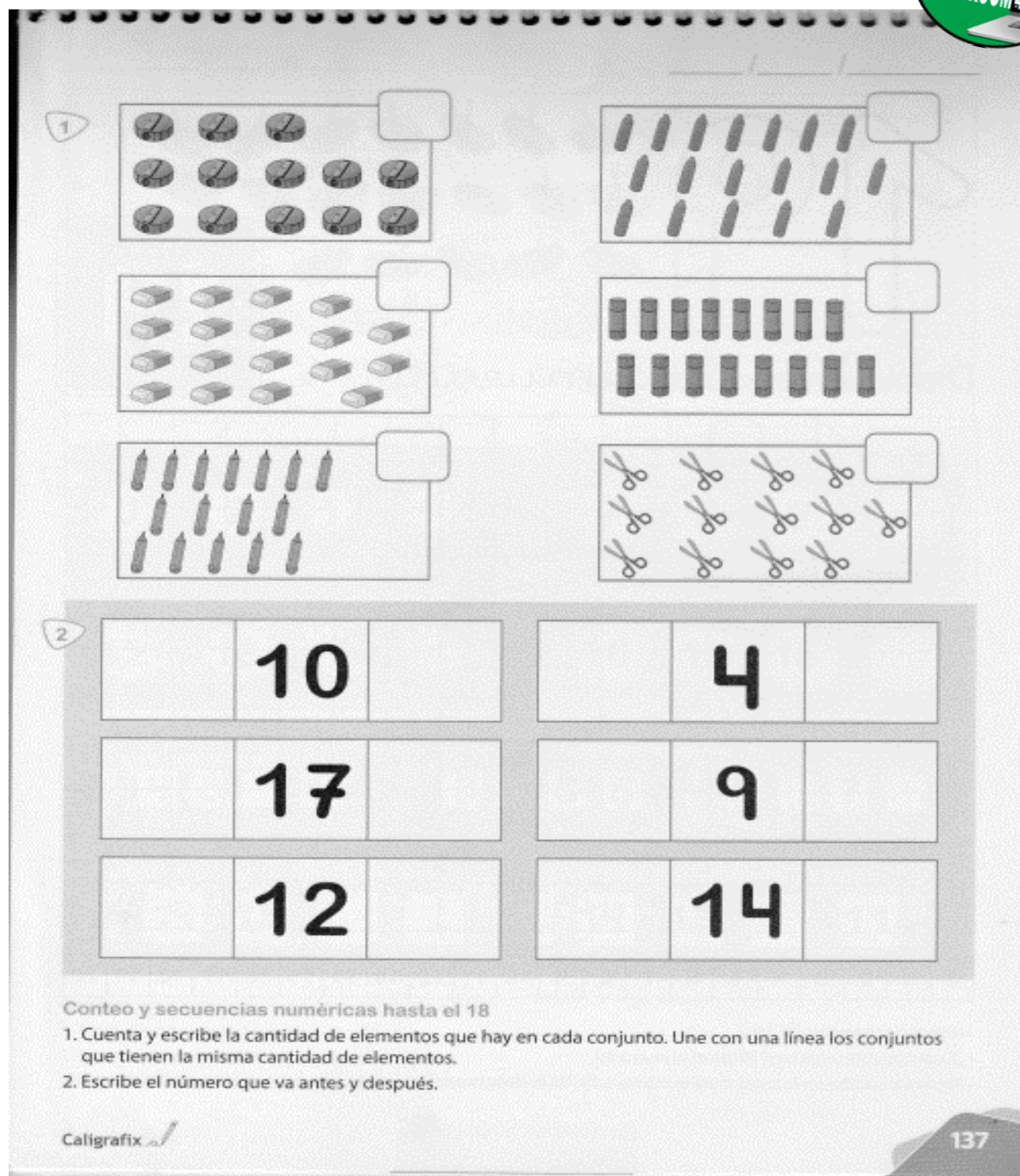
Martes 31 de Agosto

NOMBRE: _____		
	<i>DÍA</i>	<i>MES</i>

ÁMBITO: INTERACCIÓN Y COMPRENSIÓN DEL ENTORNO	NÚCLEO: PENSAMIENTO MATEMÁTICO
--	---------------------------------------

OBJETIVO DE LA ACTIVIDAD: Conteo y completación de secuencias numéricas.

SI TIENES TU LIBRO, REALIZARLA ALLÍ


1

2

	10			4	
	17			9	
	12			14	

Conteo y secuencias numéricas hasta el 18

1. Cuenta y escribe la cantidad de elementos que hay en cada conjunto. Une con una línea los conjuntos que tienen la misma cantidad de elementos.
2. Escribe el número que va antes y después.

Caligrafix 

137