


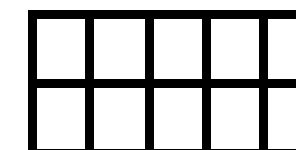
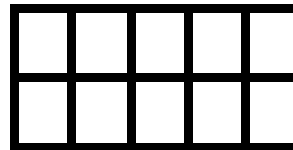

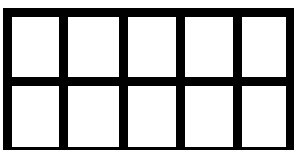
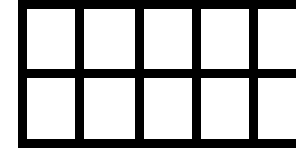

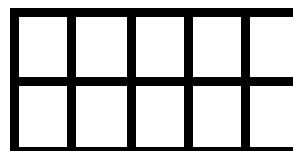

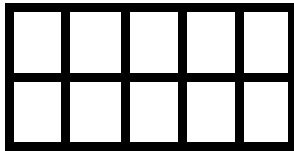
¡Reforcemos los números!

Jueves 26 de Agosto

NOMBRE: 		
	DÍA	MES

ÁMBITO	Interacción y comprensión del entorno	NÚCLEO	Matemático
OBJETIVO DE LA ACTIVIDAD: Identificar, graficar y relacionar número con cantidad.			

- Pinta la cantidad de cuadrados según indique el número de cada manzana.



- Escribe el número antecesor y sucesor en cada caso.

___ 5 ___

___ 4 ___

___ 6 ___

- Grafica el número igual al modelo.

1					
2					
3					
4					
5					
6					
7					

