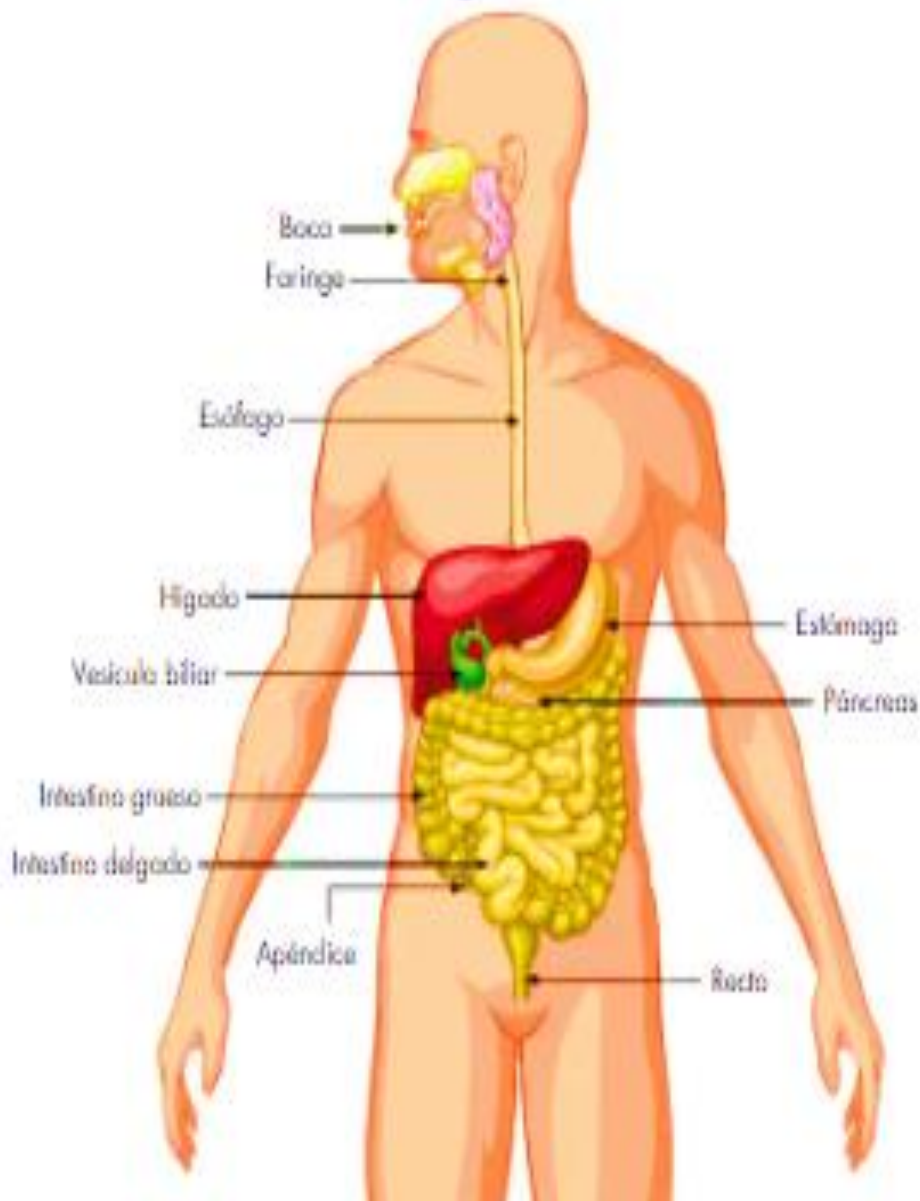


Guía N° 16

Sistema digestivo

¿Todo lo que comes,
es digerido?



Nombre: _____

Curso: 5 ° ____ Fecha: 06 / Septiembre / 2021

10 / Septiembre / 2021

Profesora: Elizabeth Álvarez

GUIA DE ACTIVIDADES. N°16

“5 ° Básicos”


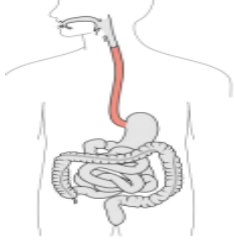
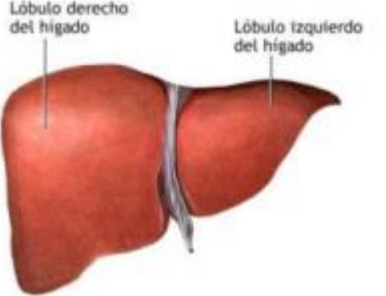

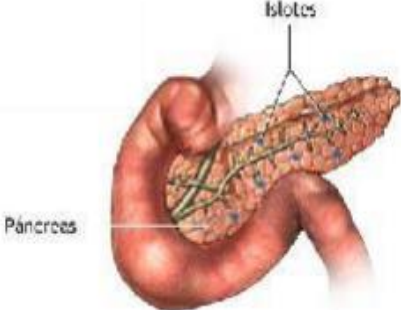
DEPARTAMENTO	Ciencias Naturales	ASIGNATURA	Ciencias Naturales
OA PRIORIZADOS	OA 1: Reconocer y explicar que los seres vivos están formados por una o más células y que estas se organizan en tejidos, órganos y sistemas.	FECHA DE INICIO	06 / Septiembre
LETRA DEL NIVEL	5 ° A-B-C-D-E	FECHA DE TERMINO	10 / Septiembre

Objetivo: Reconocer quienes forman un ecosistema.


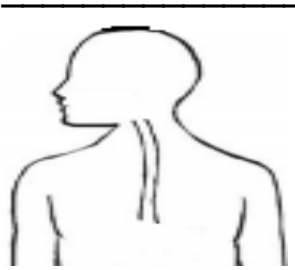


Indicaciones del profesor.

[Lee atentamente](#)

Contenido.

<p>1. Boca:</p> <p>Los dientes trituran los alimentos, la saliva humedece el alimento y se inicia la descomposición química de los alimentos formando el bolo alimenticio.</p>	
<p>2. Esófago:</p> <p>Transporta el bolo alimenticio de la faringe al estómago.</p>	
<p>3. Hígado:</p> <p>Produce la bilis (líquido de color amarillo verdoso, ácido) y ayuda a descomponer las grasas.</p>	
<p>4. Estómago:</p> <p>Acá continúa la trituración de los alimentos debido a la fuerza de las capas musculares que posee el estómago.</p> <p>Los alimentos se mezclan con el ácido secretado por la mucosa del estómago llamado Jugo gástrico y forma una sustancia llamada Quimo. Después de una serie de movimientos del estómago llamados Movimientos peristálticos, el alimento se convierte en una pasta líquida que gota a gota avanza hacia al intestino delgado</p>	
<p>5. Páncreas:</p> <p>En el intestino delgado, el páncreas secreta gotas de jugo pancreático y el Hígado gotas de Bilis que al mezclarse con el Quimo conforman una sustancia llamada Quilo. De esta manera, los alimentos disgregan (separar los elementos de los alimentos) en sus componentes más pequeños, los nutrientes.</p>	

Completa cada cuadro con el nombre o el dibujo de cada órgano del sistema digestivo, según corresponda.

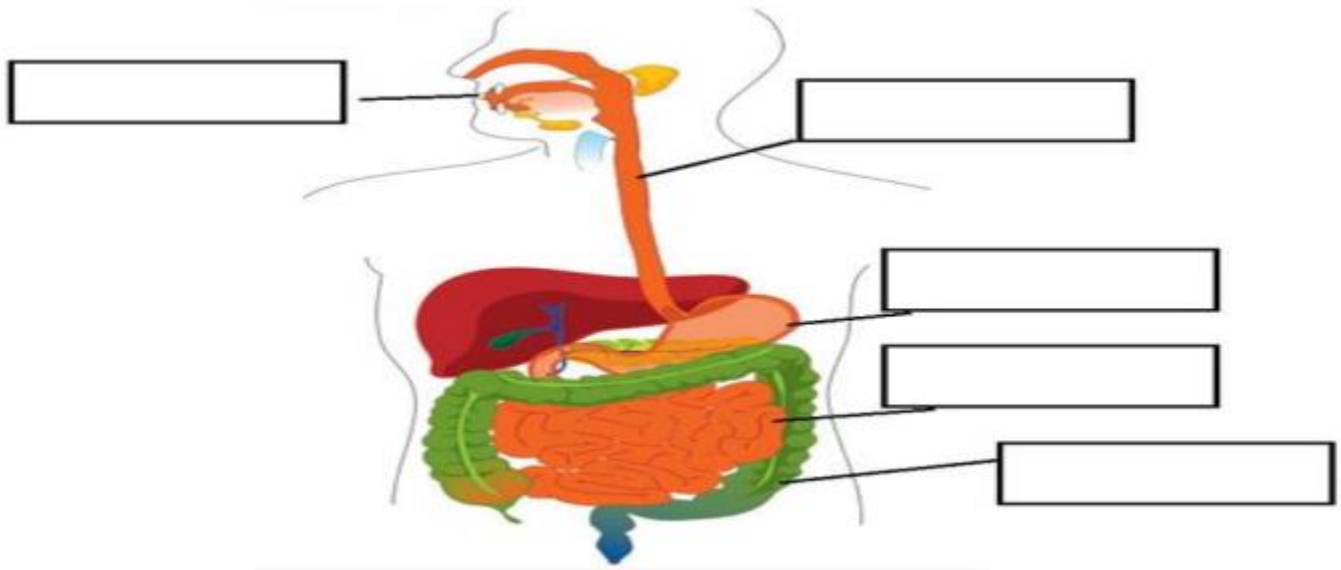
<p style="text-align: center;">BOCA</p> 		<p style="text-align: center;">ESTOMAGO</p>
<p style="text-align: center;">HÍGADO</p>	<p style="text-align: center;">PANCREAS</p>	<p style="text-align: center;">INTESTINO DELGADO</p>
	<p style="text-align: center;">RECTO</p>	

Lee y responde las preguntas

<p>1. ¿Dónde comienza la digestión de los alimentos?</p>
<p>2. ¿Cómo se llama el proceso en que los alimentos ingresan al a la boca?</p>
<p>3. ¿Cómo se forma el bolo alimenticio?</p>
<p>4. ¿Cómo se forma el quimo?</p>
<p>5. ¿Qué es el quilo?</p>
<p>6. ¿Cómo llega el alimento al Intestino delgado?</p>

El siguiente dibujo muestra los diferentes componentes del sistema Digestivo. Observa y rotule las partes del sistema digestivo que se indican.

Intestino Delgado - Intestino Grueso - Boca - Esófago - Estómago.



Busca las palabras en la sopa de letras.

Y	U	N	V	S	G	W	D	S	X	O	K	R	E	C	T	O	S	F	C	BOCA
I	V	T	I	M	U	C	X	D	D	G	B	O	C	A	X	Y	N	A	N	ESOFAGO
D	I	D	Q	G	O	B	T	A	B	A	Z	D	T	C	N	A	R	I	Z	ESTOMAGO
I	H	E	W	U	R	Q	E	R	Q	M	X	A	E	A	R	B	W	M	W	HIGADO
Y	O	C	H	X	A	N	Q	O	R	O	G	G	G	D	D	H	V	B	X	INTESTINO DELGADO
K	T	O	X	Y	Z	Ñ	C	A	B	T	G	I	T	H	D	J	O	G	D	INTESTINO GRUESO
G	V	K	B	S	O	G	A	F	O	S	E	H	R	Q	M	J	L	W	Z	PANCREAS
M	Ñ	Z	S	K	W	J	G	G	P	E	D	G	A	W	C	K	E	H	Q	RECTO
X	S	R	Z	V	F	H	G	P	R	R	A	Ñ	W	O	R	Y	X	W	P	
O	B	Ñ	U	K	J	M	X	G	P	A	N	C	R	E	A	S	V	U	Q	
A	K	K	N	O	Z	A	R	O	C	U	F	B	Ñ	K	L	K	S	W	T	
G	S	E	Z	W	U	E	I	R	R	Y	M	Ñ	U	K	Z	Z	J	H	K	
C	A	V	E	D	G	V	A	C	P	D	V	S	H	Ñ	R	L	B	X	I	
T	E	R	O	I	N	T	E	S	T	I	N	O	D	E	L	G	A	D	O	
G	G	W	T	I	N	T	E	S	T	I	N	O	G	R	U	E	S	O	J	