

Repaso para Prueba corporativa
Guía N°19
Semana del 04 al 11 de Octubre

Nombre Alumno(a):	
Asignatura: Matemática	Curso: 5° año Básico
	Fecha: Semana del 04 al 11 de octubre

I. Resuelve los siguientes problemas.

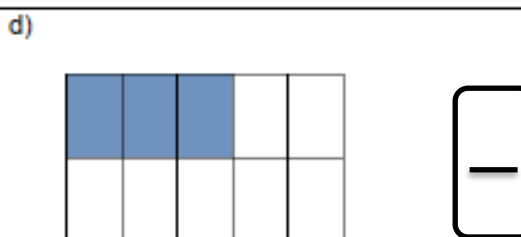

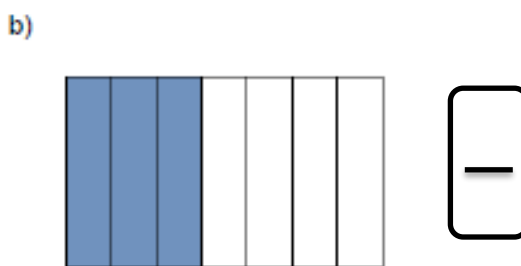
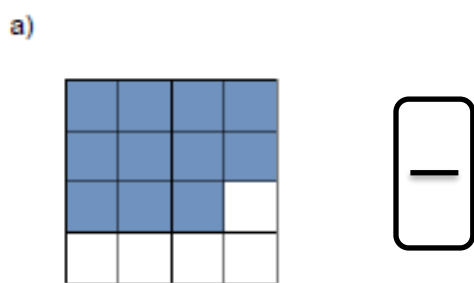
a. Pablo compró 6 cuadernos a \$875 cada uno ¿cuánto pagó por todos los cuadernos?

b. En la ciudad de viña del mar viven 3.245 personas. La ciudad más cercana es Valparaíso y tiene el doble de habitantes. ¿cuántos habitantes tiene Valparaíso?

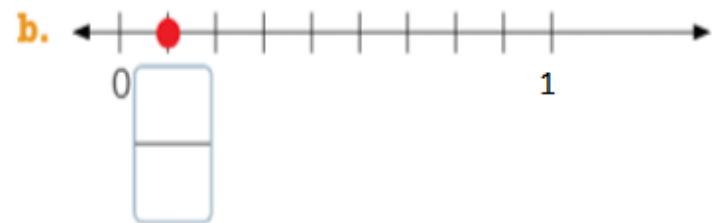
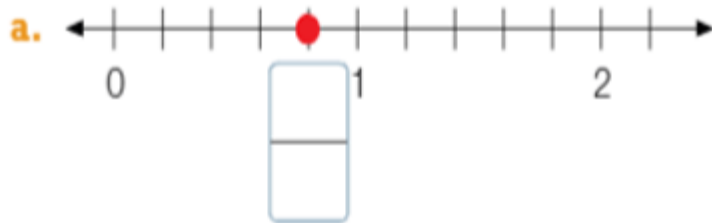
c. Camila necesita envasar 385 huevos. Si los envasa en bandejas de 6 unidades, ¿cuántos le quedan sin envasar?

d. Un cajón tiene 324 ajos. Para venderlos, Javiera armará paquetes de 4 ajos cada uno. ¿Cuántos paquetes armará en total?

II. Anota la fracción que representa cada uno de los siguientes esquemas.



III. Anota la fracción que representa cada recta numérica.



IV. De las siguientes series numéricas identifica el patrón y anota los términos que continúan.

a) 2, 4, 6, 8, 10, 12, 14

b) 1, 3, 5, 7, 9, 11, 13, 15

c) 5, 10, 15, 20, 25, 30, 35

d) 1, 2, 4, 7, 11, 16, 22, 29

e) 1, 4, 9, 16, 25, 36, 49

f) 94, 85, 76, 67, 58, 49,

V. Resuelve los siguientes problemas.

Determina el promedio de 4, 15 y 5

Determina el promedio de 45, 5 y 75

Las 3 primeras notas en la asignatura de Matemática de Magdalena son:

Nota 1	Nota 2	Nota 3	Nota 4
6,3	6,2	6,5	

¿Cuál debería ser su cuarta nota para que su promedio sea 6,5 o superior?