

PROBLEMAS MATEMÁTICOS

Martes 05 de octubre 2021

NOMBRE: _____



DÍA

MES

ÁMBITO: INTERACCIÓN Y COMPRENSIÓN DEL ENTORNO


NÚCLEO: PENSAMIENTO MATEMÁTICO

OBJETIVO DE LA ACTIVIDAD: N° 8 Resolver problemas simples de manera pictórica agregando o quitando hasta 15.

- Escucha los siguientes problemas matemáticos y resuélvelos.
- Al finalizar inventa en una hoja blanca 3 problemas matemáticos.

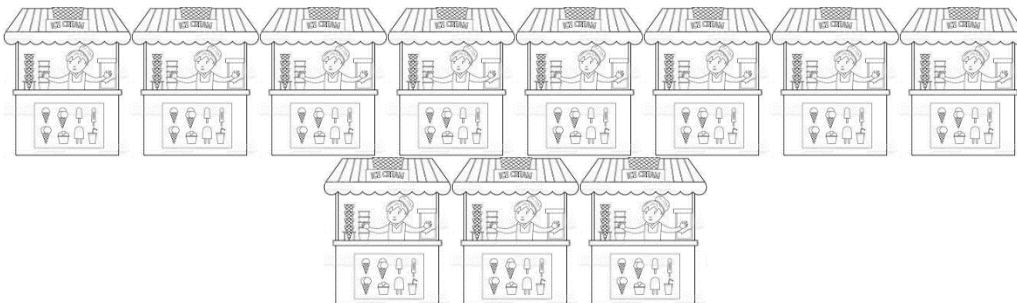


- ❖ Raúl viajó a Perú y compró en una tienda 10 gorros y luego 5 más para regalo ¿Cuántos gorros compró en total?




$$10 + 5 =$$

- ❖ Luisa en Argentina fue a una feria y había 11 locales/stands abiertos, luego de un rato 3 de ellos cerraron ¿Cuántos quedaron abiertos?



$$11 - 3 =$$

- ❖ Ernesto en Bolivia invitó a 9 amigos a subir un cerro, después invitó a 6 más ¿Cuántos amigos invito en total?



$$9 + 6 =$$