




ACTIVIDAD N°2: "Composición del número 20"

NOMBRE: _____	MARTES 26	OCTUBRE
	DÍA	MES


ÁMBITO: INTERACCIÓN Y COMPRENSIÓN DEL ENTORNO	NÚCLEO: PENSAMIENTO MATEMÁTICO
------------------------------------------------------	---------------------------------------

OBJETIVO DE LA ACTIVIDAD:
N°6 Emplear los números para contar, identificar, cuantificar y comparar cantidades hasta el 20.

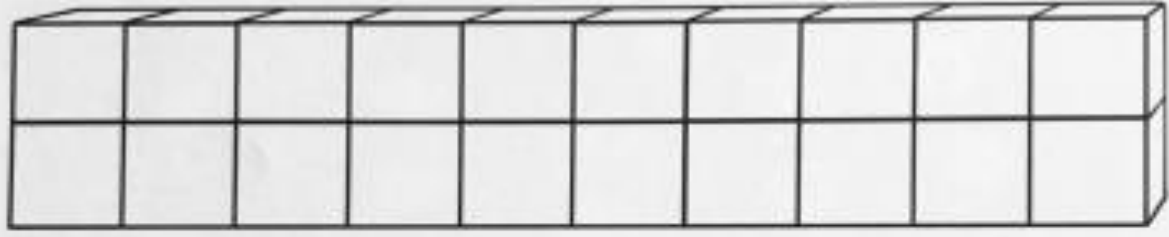
* Desarrollar págs. 142 del texto Caligrafix: números



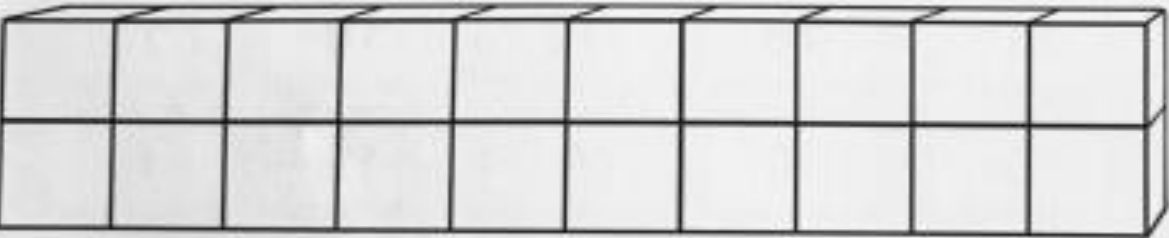
Ana pintó 12 cubos azules y 8 rojos.
Formó un bloque de 20 cubos en total.



$12 \quad \text{cubo} \quad 8 \quad \text{cubo} = 20$



$\square \quad \text{cubo} \quad \square \quad \text{cubo} = 20$



$\square \quad \text{cubo} \quad \square \quad \text{cubo} = 20$

Composición del número 20

- Pinta algunos cubos de color azul y otros de color rojo para representar las cantidades que pueden formar el número 20, distintas a las del ejemplo. Escribe la cantidad de cubos azules y rojos que pintaste.

142
Caligrafix