



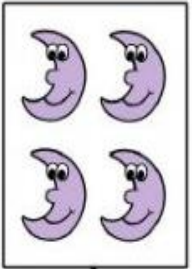









RESOLVAMOS PROBLEMAS MATEMÁTICO

Jueves 2 de Diciembre 2021

NOMBRE: _____			
		DÍA	MES
ÁMBITO	Interacción y comprensión del entorno.	NÚCLEO	Pensamiento matemático.
OBJETIVO DE LA ACTIVIDAD: Realizar problemas matemáticos: graficando la cantidad y resolviendo el ejercicio.			

Observar las imágenes, representar la cantidad y resolver los problemas matemáticos, observando el signo (+ -) y recordar de tachar los objetos.

 <input type="text"/>	 <input type="text"/>	 <input type="text"/>	 <input type="text"/>
<input type="text"/> + <input type="text"/> = <input type="text"/>		<input type="text"/> + <input type="text"/> = <input type="text"/>	
 <input type="text"/>	 <input type="text"/>	 <input type="text"/>	 <input type="text"/>
<input type="text"/> - <input type="text"/> = <input type="text"/>		<input type="text"/> - <input type="text"/> = <input type="text"/>	
 <input type="text"/>	 <input type="text"/>	 <input type="text"/>	 <input type="text"/>
<input type="text"/> + <input type="text"/> = <input type="text"/>		<input type="text"/> - <input type="text"/> = <input type="text"/>	