









ACTIVIDAD N 3:
REPASANDO LO APRENDIDO.

NOMBRE: 		
	DÍA	MES
ÁMBITO: INTERACCIÓN Y CONOCIMIENTO DEL ENTORNO.	NÚCLEO: PENSAMIENTO MATEMÁTICO.	
OBJETIVO DE LA ACTIVIDAD: <i>Realizar guía de refuerzo, de los contenidos matemáticos que hemos aprendido.</i>		

1. Escucha atentamente, el número que te dicte la educadora.







				
---	---	---	---	---

2. Completa las secuencias con los números que faltan.

	5		7			10
--	---	--	---	--	--	----

		6			9	
--	--	---	--	--	---	--

3. Dibuja en cada cuadro la cantidad de círculos que indica el número.

4. Escribe el número antecesor y sucesor según corresponda.

9
<div style="display: flex; justify-content: space-between; width: 100%;"> ___ ___ </div>

5
<div style="display: flex; justify-content: space-between; width: 100%;"> ___ ___ </div>

4
<div style="display: flex; justify-content: space-between; width: 100%;"> ___ ___ </div>

1
<div style="display: flex; justify-content: space-between; width: 100%;"> ___ ___ </div>

5. Continúa dibujando, el patrón que sigue.

--	--

--	--

6. Conteo de números. (El niño cuenta, las tías marcan con una x, hasta que número cuenta)

1	2	3	4	5	6	7	8	9	10	11	12	13	14	15	16	17	18	19	20	

7. Copia las figuras geométricas.
