
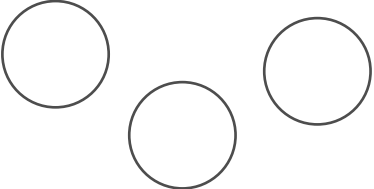



NOMBRE: _____	Viernes 29	ABRIL
	DÍA	MES
ÁMBITO: INTERACCION Y CONOCIMIENTO DEL ENTORNO	NÚCLEO: PENSAMIENTO MATEMATICO	
OBJETIVO DE LA ACTIVIDAD: RECONOCER NÚMERO CON LA CANTIDAD.		

Escribe el número a las cantidades que se presentan.

Une con una línea el número con la cantidad.

3



1



2



Escribe los números 1, 2 ,3