

## Resolvamos problemas matemáticos.

Lunes 30 de Mayo 2022

NOMBRE: \_\_\_\_\_



DÍA

MES


ÁMBITO: Interacción y conocimiento del entorno

NÚCLEO: Pensamiento matemático.

OBJETIVO DE LA ACTIVIDAD: Resolver problemas simples de adición y sustracción.

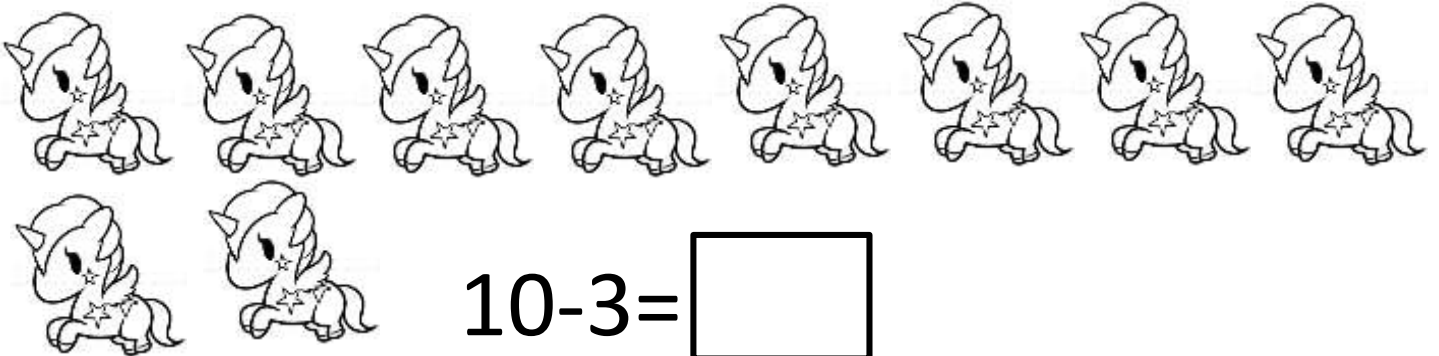
- Resuelve los siguientes problemas matemáticos.

1-Francisca compro 6 paletas en la tienda y su tío le regalo 4 paletas más ¿Cuántas paletas tiene ahora?



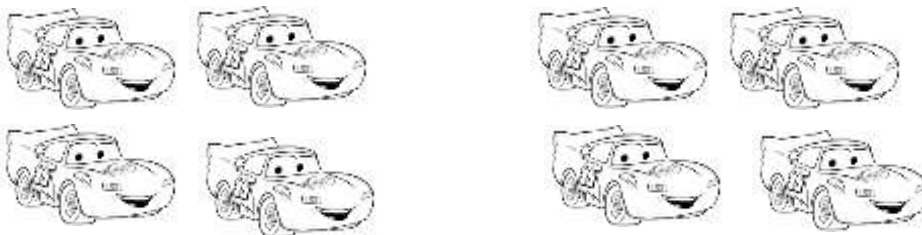
$$6+4=\square$$

2- Martín tenía 10 unicornios en su tienda de peluches y vendió 3 ¿Cuántos le quedaron?



$$10-3=\square$$

3- Ignacio tiene 4 autos y su primo le regala 4 autos más ¿Cuántos autos tiene ahora?



$$4+4=\square$$