


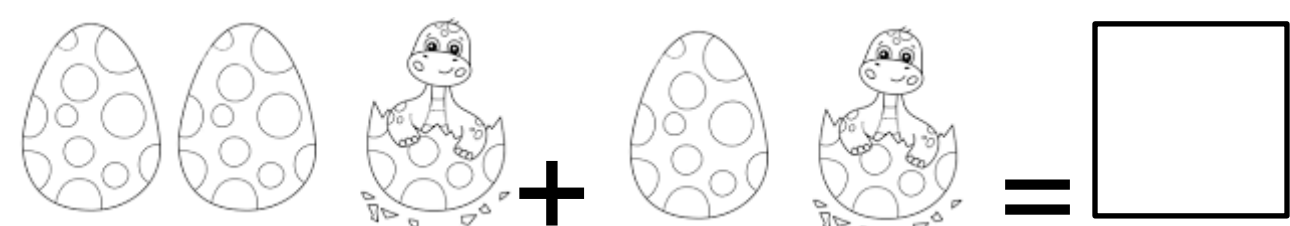
ACTIVIDAD N°2:

“Resolución de problemas matemáticos”


| | | |
|---|------------|---------------------------------------|
| NOMBRE:  | Viernes 5 | Agosto |
| | DÍA | MES |
| ÁMBITO: Interacción y comprensión del entorno | | NÚCLEO: Pensamiento matemático |

OBJETIVO DE LA ACTIVIDAD:
 8.-Resolver problemas simples de manera concreta y pictórica agregando hasta 6 elementos.
 Resuelve los siguientes problemas y escribe el número de resultado.

¿Las Mamá Dinosaurio puso 3 huevos dentro de su cueva y 2 huevos fuera de su cueva, Cuantos huevos puso en total la mamá dinosaurio?



El Brontosaurio decidió buscar hojas para su comida y saco 3 ramas de un árbol cercano a su cueva. Luego saco 3 ramas más de un árbol junto al rio. Cuantas ramas en total tiene el brontosaurio para su comida ¿



La señora Triceraptos invito a su cueva a 2 amigas dinosaurios y el señor Triceraptos invito a 2 amigos mas ¿, Cuantos dinosaurios llegan de visita a la cueva?

