



MONITOREO DE MATEMÁTICA.

NOMBRE: _____

<i>DÍA</i>	<i>MES</i>

Puntaje Ideal: 31 puntos

Puntaje real:

Concepto:

● Dictado (1 pts. c/u)

--	--	--	--	--	--	--	--	--

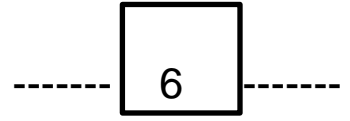
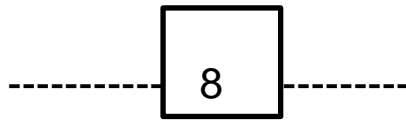
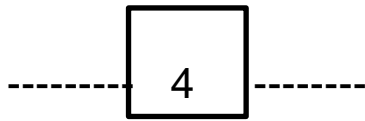
▲ Completa la secuencia numérica. (1ptp. c/u)

■ Dibuja CIRCULOS según el número. (1pts. c/u)

5	
6	
8	

☾ Cuenta y une con el número correspondiente: (1pto. c/u)

● Escribe el número que esta antes y después. (1pto. c/u)



Resolver el siguiente problema matemático: (2pts.)

1- Luis esta de cumpleaños su mamá le regalo 4 pelotas y su papá 2 más. ¿Cuántas pelotas tiene Luis en total?

4 + 2 =

2.- Samantha tiene 6 pajaritos, pero con el viento se volaron 3. ¿Cuántos pajaritos tiene ahora Samantha?

6 - 3 =



DIBUJA (1pto. c/u)

CIRCULO	CUADRADO
---------	----------



AUTOEVALUACION: marca la carita según cómo te sientes en relación con tu tarea.