

SIGNO MAYOR, MENOR E IGUAL

Miércoles 12 de octubre 2022

NOMBRE: _____



DÍA


MES

ÁMBITO: INTERACCIÓN Y COMPRENSIÓN DEL ENTORNO

NÚCLEO: PENSAMIENTO MATEMÁTICO

OBJETIVO DE LA ACTIVIDAD: Identificar números para comparar cantidades.

- Escribe el signo según corresponde.



9



12

18




18

11




58

13




14

19






19

15




20



- Realiza tu autoevaluación

1. Atendí a las explicaciones



2. ¿Cómo realicé mi tarea?

