

NOMBRE: _____


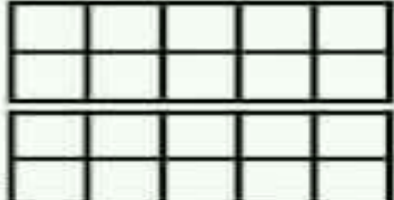

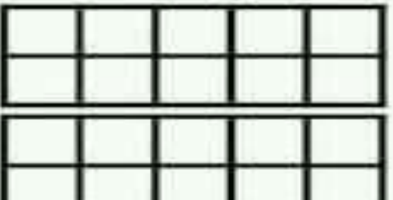

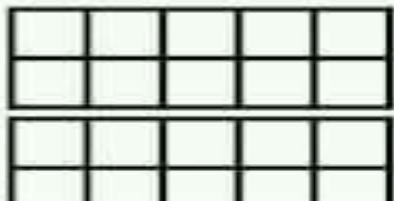



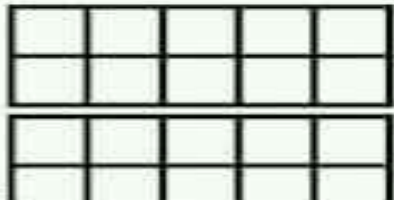

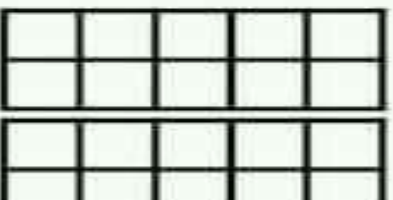

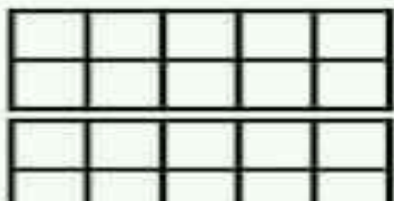

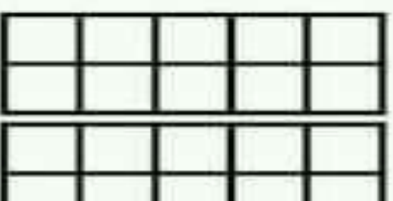
DÍA	MES



ÁMBITO: INTERACCIÓN Y COMPRENSIÓN DEL ENTORNO

NÚCLEO: PENSAMIENTO MATEMÁTICO

OBJETIVO DE LA ACTIVIDAD: Identificar la cantidad de cada número.
 Completar la secuencia numérica con el número que falta.

- Observa el número de cada cartel y pinta la cantidad de cuadrados que corresponda.
- Completa la secuencia numérica.

	<input style="width: 80%; height: 40px;" type="text"/>	<input style="width: 80%; height: 40px; border: 1px solid black;" type="text" value="12"/>	<input style="width: 80%; height: 40px;" type="text"/>	<input style="width: 80%; height: 40px;" type="text"/>	<input style="width: 80%; height: 40px; border: 1px solid black;" type="text" value="15"/>
<input style="width: 80%; height: 40px;" type="text"/>	<input style="width: 80%; height: 40px; border: 1px solid black;" type="text" value="17"/>	<input style="width: 80%; height: 40px;" type="text"/>	<input style="width: 80%; height: 40px; border: 1px solid black;" type="text" value="19"/>	<input style="width: 80%; height: 40px;" type="text"/>	

 <p>LO HAGO MUY BIEN</p>	 <p>ESTOY APREN DIENDO</p>	 <p>ME SALE REGULAR</p>
--	--	--