

Jueves 20 de octubre 2022

NOMBRE: _____



DÍA

MES

ÁMBITO: INTERACCIÓN Y COMPRENSIÓN DEL ENTORNO

NÚCLEO: PENSAMIENTO MATEMÁTICO


OBJETIVO DE LA ACTIVIDAD: Llevar a cabo todo lo aprendido.

29 puntos




Puntaje total

Nivel de logro

1. Escucha atentamente y escribe el número que dicte la educadora. 1pto.



2. Cuenta los objetos y escribe el número que corresponde. 2pto.



3. Escribe el signo mayor o menor según corresponda > < o =. 2pto


10		8
----	--	---

7		15
---	--	----

4		6
---	--	---

13		13
----	--	----

4. Completa la secuencia numérica con el número que falta. 1pto (cada fila).



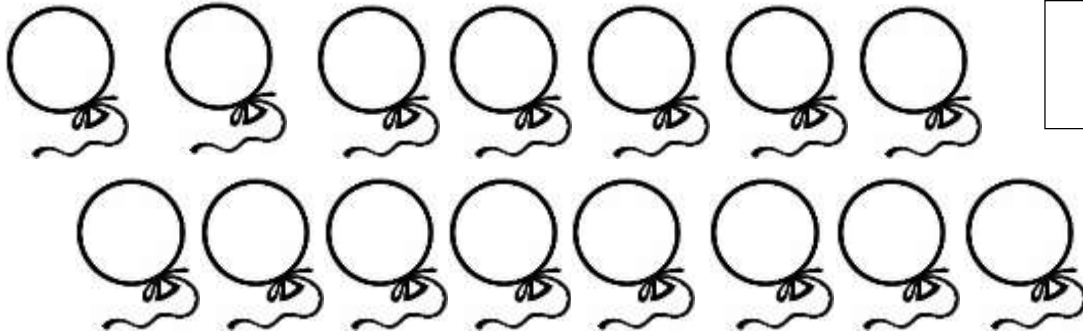
5. Resuelve los siguientes problemas matemáticos. 2pto

María tenía 10 estrellas y su mamá le regala 5 estrellas más ¿Cuántas estrellas tiene ahora?




$$10 + 5 =$$

Nicolás tenía 15 globos y se reventaron 7 ¿Cuántos globos le quedaron?



$$15 - 7 =$$

6. Dictado figuras geométricas 1pts



• Realiza tu autoevaluación.

 <p>LO HAGO MUY BIEN</p>	 <p>ESTOY APREN DIENDO</p>	 <p>ME SALE REGULAR</p>
--	--	--