

¡REFORZANDO Y APLICANDO LOS NÚMEROS!

Lunes 14 de Noviembre

NOMBRE: _____




DÍA

MES

1. Escribe números al dictado.

☆	△	♥	☾	☁
---	---	---	---	---

2. Ayuda al conejito a completar los números que faltan en la secuencia.



3			6				
---	--	--	---	--	--	--	--


3.- Dibuja según cantidad del número.







9





5

4.- Resuelve el siguiente problema matemático

A Pipo le encantan las frutillas, y fue al campo de su abuelita, vio que ya estaban crecidas y primero se comió 6 frutillas y luego se comió 4 más. ¿Cuántas frutillas en total se comió?



+

=

=