


GUÍA DE REFORZAMIENTO MATEMÁTICAS







Jueves 17 de Noviembre 2022

NOMBRE: 		
	DÍA	MES

ÁMBITO: INTERACCIÓN Y COMPRENSIÓN DEL ENTORNO	NÚCLEO: PENSAMIENTO MATEMÁTICO
---	--------------------------------

OBJETIVO DE LA ACTIVIDAD: Llevar a cabo todo lo aprendido.

1. Escucha atentamente y escribe el número que dicte la educadora.

					
--	---	---	---	---	---

2. Escribe el signo mayor o menor según corresponda > < o =.


8		8
---	--	---

20		15
----	--	----

19		15
----	--	----

17		13
----	--	----

3. Completa la secuencia numérica con el número que falta.



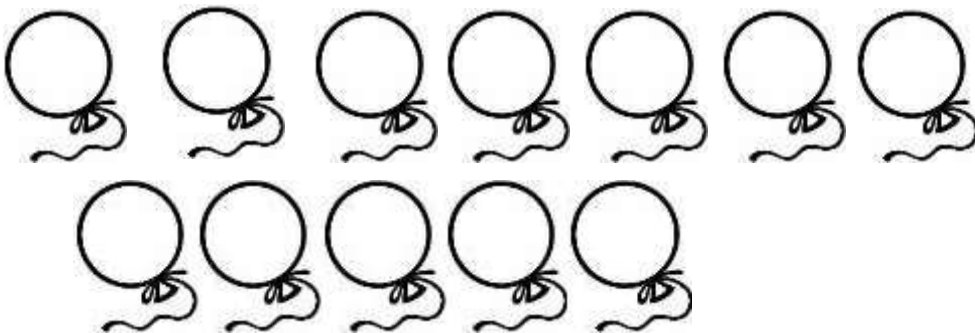
4. Resuelve los siguientes problemas matemáticos.

María tenía 8 estrellas y su mamá le regala 5 estrellas más ¿Cuántas estrellas tiene ahora?




$$8 + 5 =$$

Nicolás tenía 15 globos y se reventaron 7 ¿Cuántos globos le quedaron?



$$12 - 8 =$$

5. Dictado figuras geométricas



LO HAGO
MUY BIEN



ESTOY
APREN
DIENDO



ME SALE
REGULAR